

Ime in priimek:

Število točk:

1

Preberi števila. Zapiši jih na črto. Poišči ta števila v tabeli. Pod vsakim številom je črka. Pobarvaj črke. Dobil boš ime posebne trgovine.

Oseminštirideset = _____

Šestintrideset = _____

Dvainpetdeset = _____

Petinštirideset = _____

Devetinsedemdeset = _____

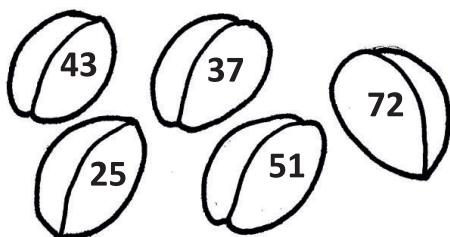
Štiriinosemdeset = _____

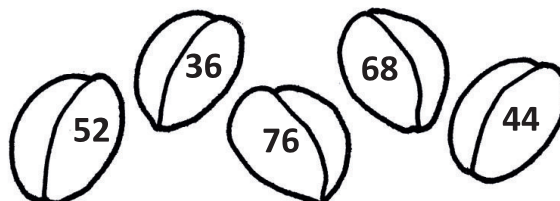
Sedemindevetdeset = _____

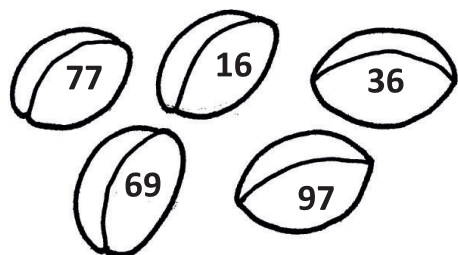
64	48	54	36	63	52	45	25	79	84	97
O	P	L	E	S	K	A	T	R	N	A

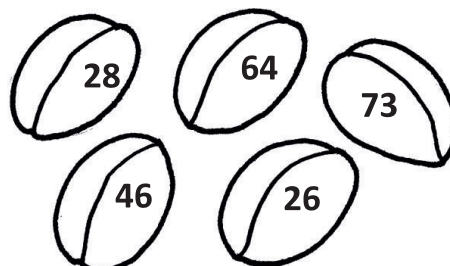
2

Uredi števila v žemljah. Začni z najmanjšim. Števila napiši na črte pod žemlje.









3

Izračunaj. Če boš pravilno izračunal in povezal rezultate po vrsti, boš izvedel, kdo je našemu peku pomagal peči kruh.

$48 - 4 = \underline{\quad}$

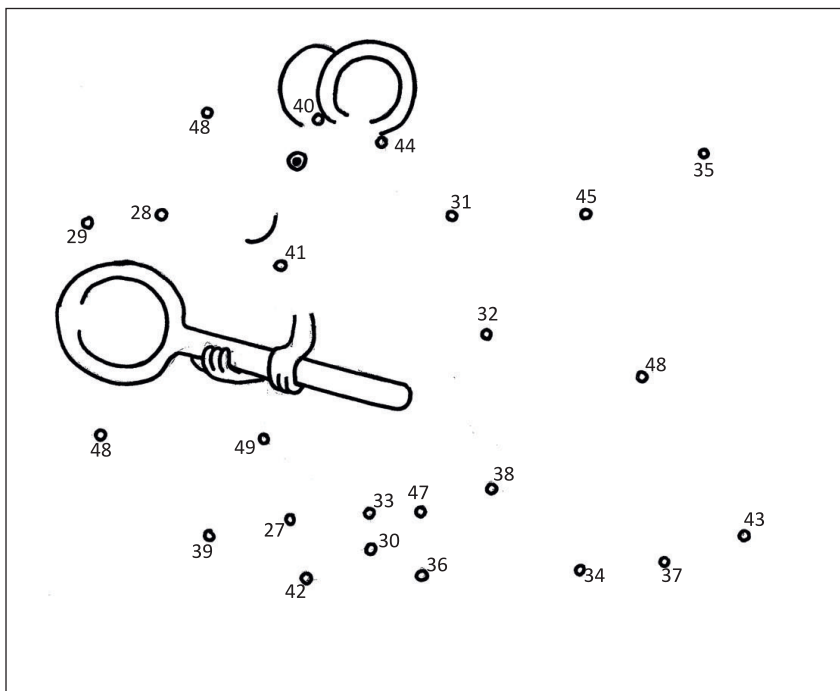
$36 + 2 = \underline{\quad}$

$50 - 7 = \underline{\quad}$

$41 + 6 = \underline{\quad}$

$34 + 2 = \underline{\quad}$

$49 - 7 = \underline{\quad}$



$27 + 3 = \underline{\quad}$

$38 - 5 = \underline{\quad}$

$46 + 3 = \underline{\quad}$

$47 - 6 = \underline{\quad}$

$29 - 1 = \underline{\quad}$

$35 + 5 = \underline{\quad}$

4


A Pek Mišmaš je spekel 42 rogljičev in 7 prest. Koliko peciva je spekel?

Račun: _____



B Črne miši so pomagale speči 46 kg črnega kruha, bele miši 35 kg belega kruha. Katere miške so spekle več? Obkroži jih na sliki. Prikaži to z znaki za večje in manjše.

Račun: 46 35



C V pekarni je bilo še 27 štruc črnega kruha. Neka gospa je kupila 3 štruce. Koliko štruc je ostalo?

Račun: _____

