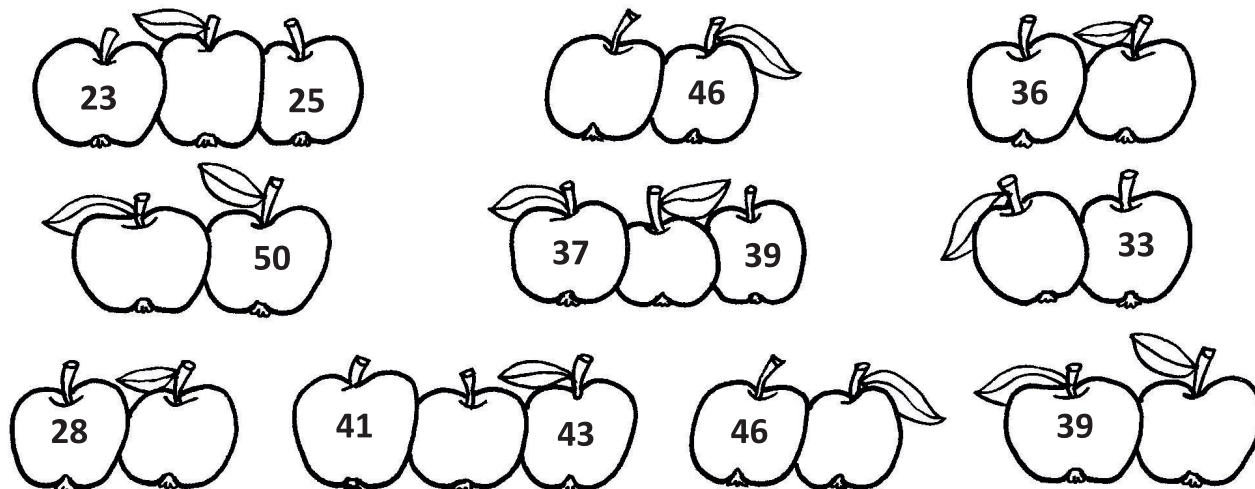


Ime in priimek:

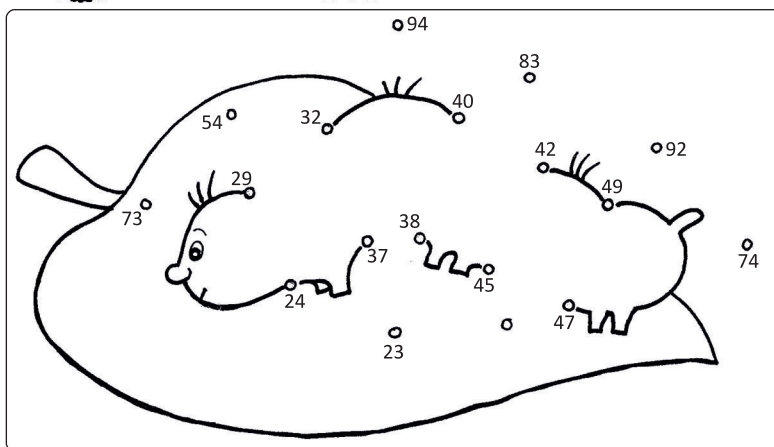
Število točk:

1

Zapiši katera števila so pred, med in za napisanim številom v jabolkih.
Rezultate razvrsti po velikosti od najmanjšega do največjega in jih napiši na črto.
Po vrsti jih poveži v sliki in dobil boš drevesnega škodljivca.



Urejena števila po velikosti:



2

Preberi števila. Zapiši jih na črto. Poišči ta števila v tabeli. Nad vsakim številom je črka. Pobarvaj črke. Dobil boš ime življenjskega okolja.

dvainštirideset = _____

sedemnajst = _____

devetintrideset = _____

dvajset = _____

enainštirideset = _____

petdeset = _____

devetinštirideset = _____

osemintrideset = _____

sedemindvajset = _____

T	S	R	A	D	K	○	A	V	N	I	J	A	K
21	20	24	42	50	72	27	94	38	49	93	17	41	39

3

Če boš pravilno izračunal in vpisal črke v prazna okenca ob računih boš dobil imeni dveh stvari potrebnih v sadovnjaku. Rezultatom poišči črke v tabeli spodaj.

$31 + 5 = \underline{\quad} \square$

$22 + 7 = \underline{\quad} \square$

$29 - 7 = \underline{\quad} \square$

$40 + 8 = \underline{\quad} \square$

$38 - 6 = \underline{\quad} \square$

$35 + 2 = \underline{\quad} \square$

$50 - 4 = \underline{\quad} \square$

$21 + 4 = \underline{\quad} \square$

$9 + 7 = \underline{\quad} \square$

$29 - 5 = \underline{\quad} \square$

$39 - 5 = \underline{\quad} \square$

$50 - 3 = \underline{\quad} \square$

22	47	24	36	32	48	46	37	16	25	29	34
E	Č	A	L	S	B	T	I	E	R	O	V

4


- A V sadovnjaku Resje je bilo veliko dreves. Posadili so 36 jablan in 4 hruške. Koliko sadnih dreves je to skupaj?

Račun: _____



- B Jabolčni zavijač je od 36 jablan uničil 5 dreves. Koliko dreves je ostalo?

Račun: _____



- C V zaboj so položili 8 kg jabolk. Koliko kg morajo še položiti, da jih bo 15 kg?

Račun: _____

