

Ime in priimek:

Število točk:

1

Če boš pravilno izračunal in vpisal črke v prazna okenca ob računih boš dobil imeni pomladanskih cvetic. Rezultatom poišči črke v tabeli spodaj.

$49 - 4 = \underline{\quad}$

$57 - 3 = \underline{\quad}$


$61 + 5 = \underline{\quad}$

$69 - 6 = \underline{\quad}$

$27 + 2 = \underline{\quad}$

$72 + 7 = \underline{\quad}$

$59 - 9 = \underline{\quad}$



$38 - 2 = \underline{\quad}$

$88 - 7 = \underline{\quad}$

$53 + 4 = \underline{\quad}$

$99 - 7 = \underline{\quad}$



$41 + 5 = \underline{\quad}$



$91 + 6 = \underline{\quad}$

29	36	45	46	50	54	57	63	66	79	81	92	97
Č	Ž	Z	A	K	V	F	N	O	E	A	R	N

2

Uredi števila v cvetnih lističih trobentic. Začni z najmanjšim. Števila napiši na črto pod vsako trobentico.





3

Reši enačbe. Pobarvaj črke v poljih s pravilnimi rezultati. Dobil boš besedo, značilno za pomlad.

$62 - \square = 60$

$\square - 2 = 57$

$79 - \square = 71$

$\square - 3 = 64$

$35 + \square = 39$

$88 - \square = 81$

$41 + \square = 47$

$69 - \square = 64$

$51 + \square = 52$

$\square + 21 = 24$

Rešitev: _____

Z	T	V	R	M
95	67	76	59	9
A	O	B	Š	I
13	3	7	19	11
E	B	N	K	T
5	14	1	12	6
D	I	H	C	A
58	4	66	8	2

4

A Na travniku raste 38 zvončkov. Tanja je nabrala 7 zvončkov. Koliko jih je ostalo?

Račun: _____



B Prodajalka v cvetličarni je imela v vazi 51 narcis in samo 7 tulipanov. Koliko cvetic je bilo skupaj?

Račun: _____



C Tanja bere knjigo. Prebrala je že 20 strani. Knjiga ima 60 strani. Koliko strani mora še prebrati?

Račun: _____

