

Ime in priimek: _____

Število točk: _____

1

Reši račune. Rezultate po vrsti poveži s črto. Izvedel boš, s čim sta se peljala Mina in Tomaž.

$$\begin{array}{r} 1 \quad 82 \\ - 79 \\ \hline \end{array}$$

$$\begin{array}{r} 2 \quad 24 \\ + 67 \\ \hline \end{array}$$

$$\begin{array}{r} 3 \quad 91 \\ - 19 \\ \hline \end{array}$$

$$\begin{array}{r} 4 \quad 64 \\ - 38 \\ \hline \end{array}$$

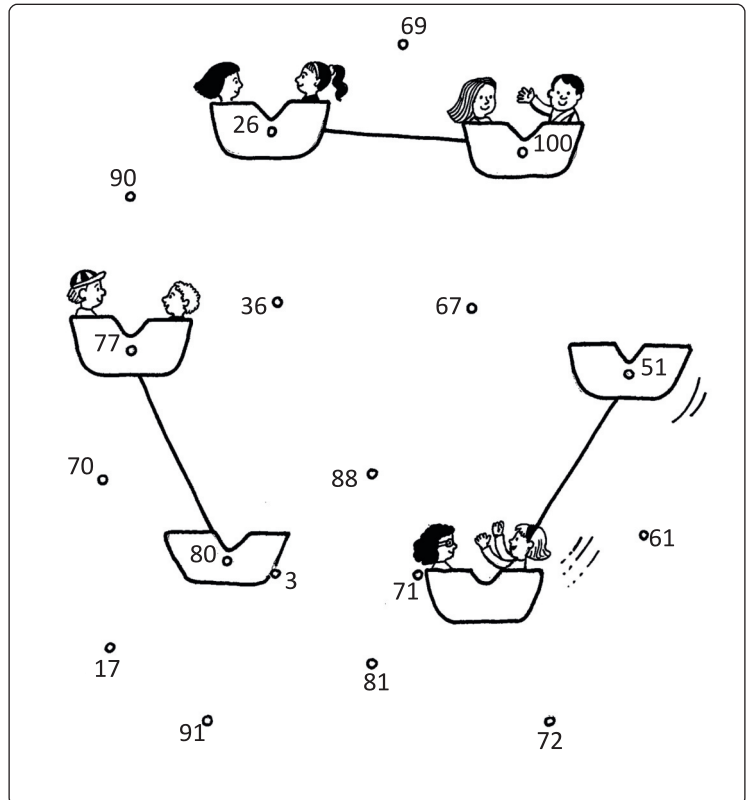
$$\begin{array}{r} 5 \quad 59 \\ + 18 \\ \hline \end{array}$$

$$\begin{array}{r} 6 \quad 80 \\ - 29 \\ \hline \end{array}$$

$$\begin{array}{r} 7 \quad 47 \\ + 53 \\ \hline \end{array}$$

$$\begin{array}{r} 8 \quad 15 \\ + 29 \\ + 36 \\ \hline \end{array}$$

$$\begin{array}{r} 9 \quad 27 \\ + 35 \\ + 9 \\ \hline \end{array}$$



2

Zmnoži. Prečrtaj igrače s pravimi rezultati. Igračo, ki ostane, je Tomaž zadel z žogico in jo za nagrado odnesel domov. Katero igračo je Tomaž odnesel domov?

$$3 \cdot 4 = \underline{\quad}$$

$$0 \cdot 3 = \underline{\quad}$$

$$8 \cdot 2 = \underline{\quad}$$

$$3 \cdot 10 = \underline{\quad}$$

$$8 \cdot \underline{\quad} = 32$$


$$7 \cdot 5 = \underline{\quad}$$

$$5 \cdot 3 = \underline{\quad}$$

$$7 \cdot \underline{\quad} = 21$$

$$9 \cdot 4 = \underline{\quad}$$

$$9 \cdot 3 = \underline{\quad}$$



Tomaž je domov odnesel _____.

3

Reši račune. Pobarvaj polja s pravilnimi rezultati. Pokazala se ti bo pot, po kateri je vlakec odpeljal Mino in Tomaža.

$$4 + 89 = \underline{\quad}$$

$$33 + 47 = \underline{\quad}$$

$$23 - 19 = \underline{\quad}$$

$$78 - \underline{\quad} = 20$$

$$66 + 25 = \underline{\quad}$$

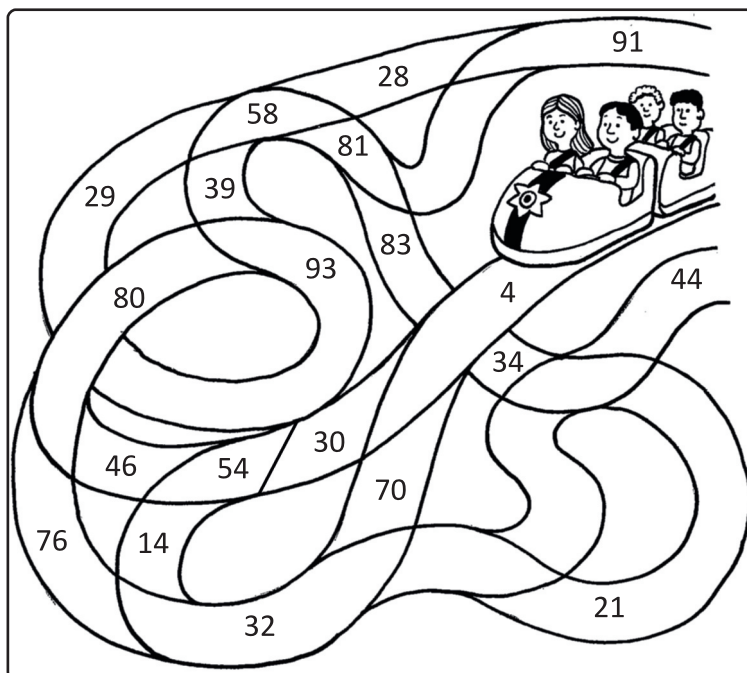
$$67 - 38 = \underline{\quad}$$

$$54 + \underline{\quad} = 82$$

$$92 - 46 = \underline{\quad}$$

$$17 + 37 = \underline{\quad}$$

$$86 - 56 = \underline{\quad}$$



4

Reši naloge. Rezultati so napisani v balonih. Pravilne obkroži.

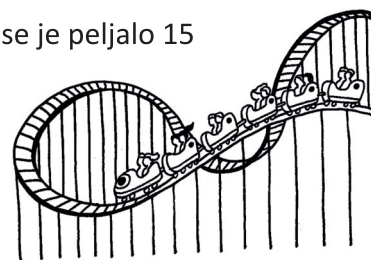
- A Mina je na potepanju po zabaviščnem parku pojedla dve sladkorni peni, Tomaž pa tri sladolede. Sladkorna pena stane 2 evra, sladolec pa 1 evro.
Koliko denarja jima je še ostalo, če sta imela 10 evrov?

Račun: _____



- B S hitrošnim vlakcem se je dopoldne peljalo 48 otrok. Popoldne pa se je peljalo 15 otrok manj kot dopoldne.
Koliko otrok se je s hitrošnim vlakcem peljalo v celem dnevu?

Račun: _____



- C Pred slaščičarno v zabaviščnem parku so ponudili rolado velikanko, ki je bila dolga 5 metrov. V eni uri so razrezali in obiskovalcem razdelili 30 dm rolade.
Koliko metrov rolade je še ostalo za kasneje?

Račun: _____

