

Ime in priimek:

Število točk:

1

Izračunaj račune. Črke vpiši v razpredelnice na ustrezna mesta. Pokazala se ti bodo imena treh držav, na križišču katerih ležijo Jesenice.

$9 \cdot 8 =$   **L**

$63 : 9 =$   **O**

$5 \cdot$    $= 25$  **I**

$: 6 = 10$  **V**

$\cdot 9 = 36$  **S**

$27 :$    $= 9$  **N**

$7 \cdot 3 =$   **A**

$: 8 = 5$  **J**

$\cdot 6 = 48$  **T**

$42 : 7 =$   **E**

4	72	7	60	6	3	5	40	21	

					R				
21	60	4	8	1	5	40	21		

5	8	21	72	5	40	21			

2

Izračunaj. Rezultat poišči v sliki in polja polja pobarvaj. Ugotovil boš, katerim rožam Jeseničani pravijo "ključavnice".

$$\begin{array}{r} 602 \\ + 265 \\ \hline \end{array}$$

$$\begin{array}{r} 541 \\ - 361 \\ \hline \end{array}$$

$$\begin{array}{r} 320 \\ + 429 \\ \hline \end{array}$$

$$\begin{array}{r} 554 \\ - 365 \\ \hline \end{array}$$

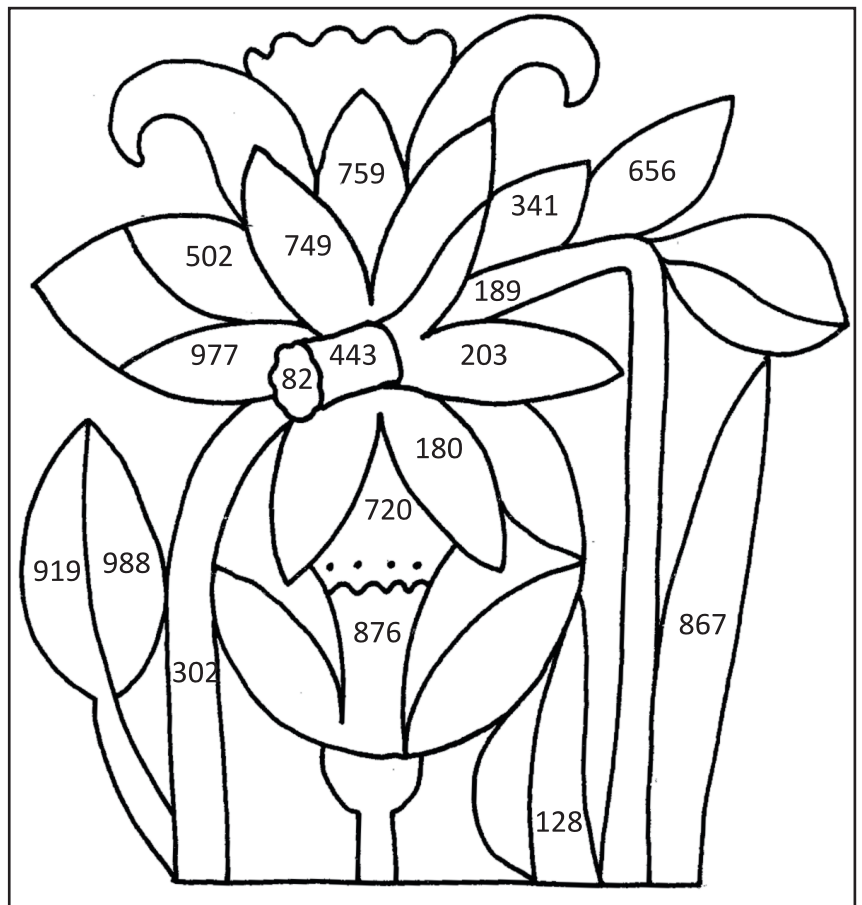
$$\begin{array}{r} 256 \\ + 187 \\ \hline \end{array}$$

$$\begin{array}{r} 369 \\ - 287 \\ \hline \end{array}$$

$$\begin{array}{r} 624 \\ - 496 \\ \hline \end{array}$$

$$\begin{array}{r} 694 \\ + 283 \\ \hline \end{array}$$

$$\begin{array}{r} 520 \\ - 317 \\ \hline \end{array}$$





Izračunaj besedilne naloge. Pri vsaki nalogi pobarvaj okence s pravilnim rezultatom.

- A Kolesarji so se z Jesenic odpeljali ob 8.00. Najhitrejši kolesar je v Kranjsko Goro prispel ob 8.45, drugi najhitrejši pa pol ure za njim. Kdaj je prispel drugi kolesar?

Račun:


9.15	9.30	8.15
------	------	------



- B V Zelence, kjer izvira Sava Dolinka, so prispeli turisti iz Nemčije in Anglije. Turistov iz Nemčije je bilo 320, turistov iz Anglije pa 125 več kot turistov iz Nemčije. Koliko je bilo vseh turistov skupaj?

Račun:

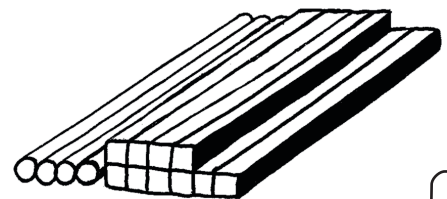
567	675	765
-----	-----	-----



- C V železarni vsako uro naredijo 10 kilogramov jeklenih plošč in 8 kilogramov jeklenih palic. Koliko skupaj tehtajo plošče in palice, ki jih naredijo v osmih urah?

Račun:

144 kg	134 kg	440 kg
--------	--------	--------



Reši naloge. Rezultate po vrsti poveži. Ali veš, po katerem športu so tudi znane Jesnice?

5 l = \_\_\_\_\_ dl

600 cm = \_\_\_\_\_ dm

35 dni = \_\_\_\_\_ tednov

2 kg = \_\_\_\_\_ dag

4 dm + \_\_\_\_\_ dm = 1 m

20 dm = 19 dm + \_\_\_\_\_ cm

1 kg = 500 g + \_\_\_\_\_ g

35 s + \_\_\_\_\_ s = 1 min

\_\_\_\_\_ dag + 6 dag = 1 kg

20 mm + \_\_\_\_\_ cm = 1 dm

