


Ime in priimek:

Število točk:

- 1 Včasih so učenci pri pisanju uporabljali gosja peresa, kasneje pa peresnik. Izračunaj račune. Peresnik poveži z ustreznim črnilnikom.



- 2 Izračunaj račune. Rezultate po vrsti poveži s črto. Spoznal boš, kaj so morali učenci v šoli nositi, če so bili kaznovani.

$7 \cdot 3 = \underline{\quad}$

$6 \cdot 4 = \underline{\quad}$

$4 \cdot 5 = \underline{\quad}$

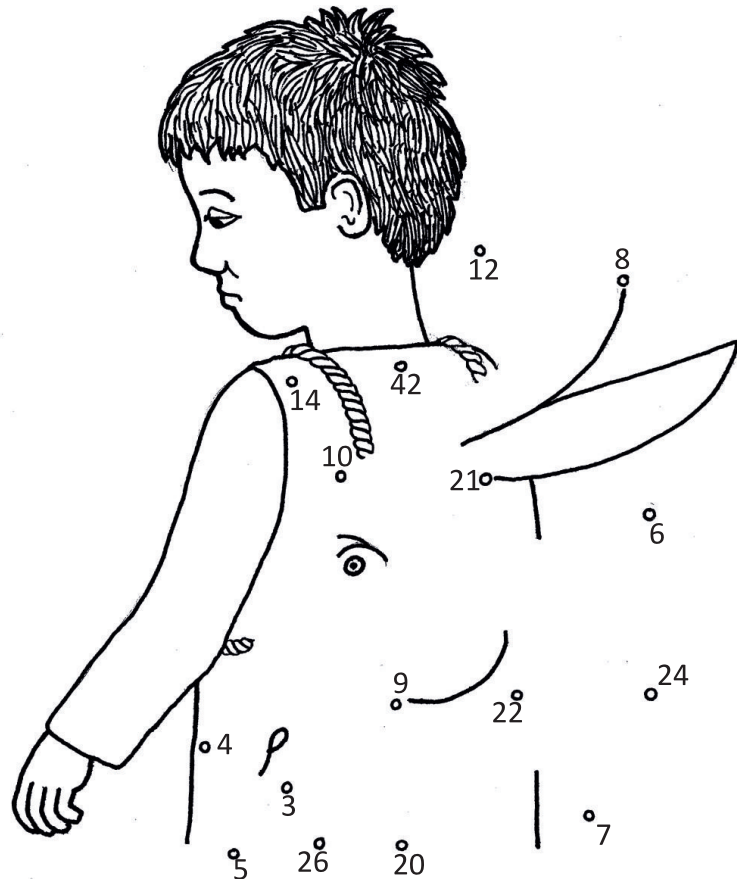
$18 : 2 = \underline{\quad}$

$9 \cdot \underline{\quad} = 27$

$\underline{\quad} \cdot 8 = 32$

$50 : 5 = \underline{\quad}$

$2 \cdot \underline{\quad} = 16$



3 Pretvori. V tabeli poišči pravilne rezultate in pobarvaj črke pod njimi. Črke po vrsti prepisi v spodnje okvirčke in izvedel boš, kako se je nekoč imenovalo šolsko berilo.

Prestopno leto = ____ dni

Pol leta = ____ mesecev

Pol ure = ____ min

Četrť ure = ____ min

21 dni = ____ tedni

Pol kilograma = ____ dag

Mesec julij ima ____ dni



| | | | |
|-----|-----|----|----|
| 12 | 366 | 60 | 30 |
| Š | Č | B | I |
| 3 | 365 | 45 | 4 |
| T | E | N | R |
| 500 | 6 | 1 | 50 |
| I | A | L | N |
| 15 | 5 | 31 | 28 |
| K | O | A | U |

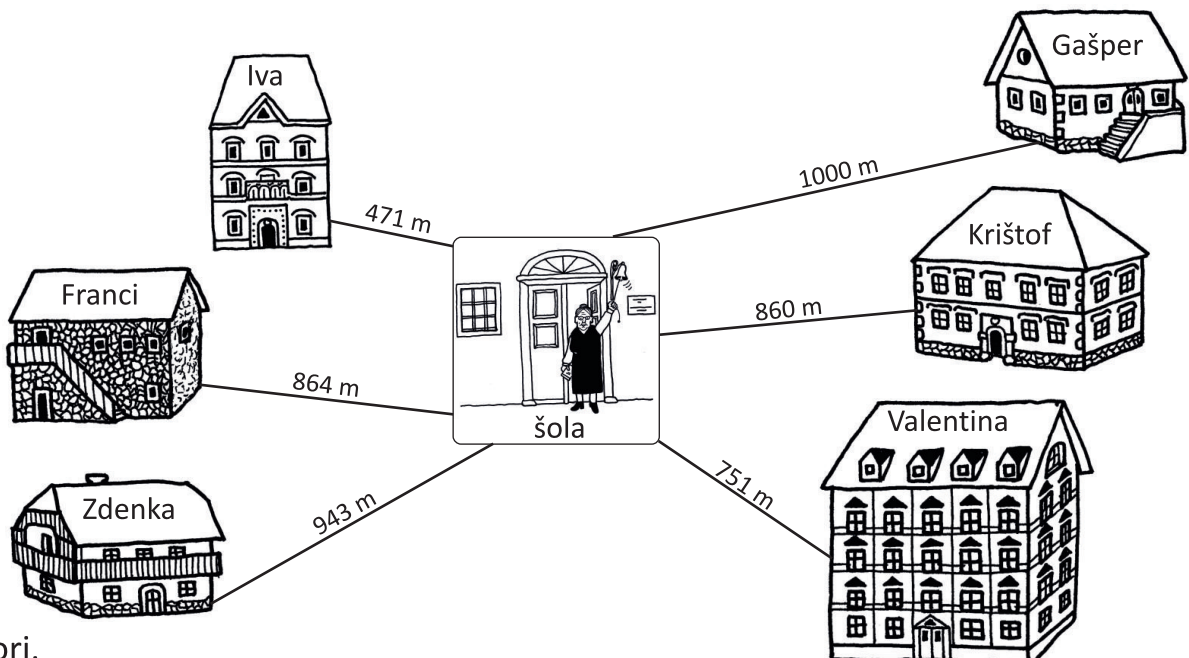
Rešitev: _____

4 Reši besedilne naloge.

Včasih so se najuspešnejši učenci vpisovali v zlato knjigo, v črno knjigo pa so učitelji vpisovali poredne učence.

Pred 150. leti se je v zlato knjigo vpisalo 266 učencev. Naslednje leto je bilo vpisanih že 405 učencev. Koliko učencev se je to leto vpisalo?

Račun:



Odgovori.

A) Kateri učenci so oddaljeni od šole več kot 863 m? _____

B) Kateri učenci so oddaljeni od šole manj kot 571m? _____

C) Kdo stanuje najdalje od šole? _____

Č) Zapiši učence glede na oddaljenost od šole. Začni s tistim učencem, ki živi najbližje šoli.
