

Ime in priimek: _____

Število točk: _____

Danes Ana praznuje rojstni dan in vsa družina odide v živalski vrt. Tam Ana izve veliko novega o živalih. Pridruži se ji še ti.

1 Izračunaj račune. Pobarvaj rezultate. Odkril boš žival, ki ima zelo izostren sluh saj lahko ujame kar dva komarja v eni sekundi. Ime živali napiši na spodnjo črto.

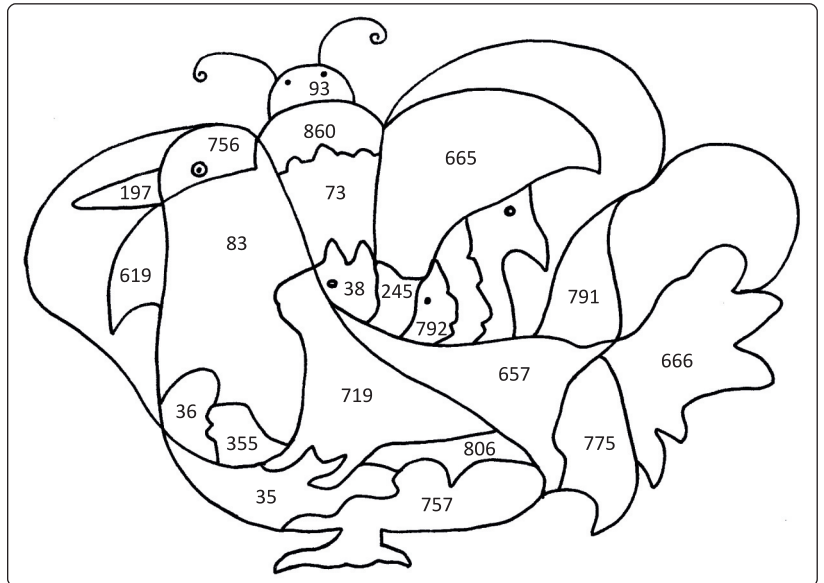
$625 + 32 = \underline{\hspace{2cm}}$

$848 - 129 = \underline{\hspace{2cm}}$

$683 - \underline{\hspace{2cm}} = 600$

	542	387
-	63	+ 233
	729	+ 419

876	800
-	257
	- 555



Ime živali: _____

2 Izračunaj račune. Rezultatom poišči ustrezno črko v legendi in jo vpiši v okence poleg rezultata. Če si pravilno izračunal, boš lahko prebral vrsto opice, ki se je prva naučila govoriti.

$32 : 4 = \underline{\hspace{2cm}}$

$\underline{\hspace{2cm}} \cdot 9 = 45$

$\underline{\hspace{2cm}} : 7 = 7$

$48 : 8 = \underline{\hspace{2cm}}$

$54 : 6 = \underline{\hspace{2cm}}$


$9 \cdot 8 = \underline{\hspace{2cm}}$

$7 \cdot 6 = \underline{\hspace{2cm}}$

$8 \cdot \underline{\hspace{2cm}} = 56$

$28 : \underline{\hspace{2cm}} = 7$

Preberi



Legenda:

6	3	49	5	2	4	7	94
N	F	A	R	Š	N	A	I

42	35	8	27	72	14	81	9
T	P	O	M	U	S	J	G

- 3 Spremeni mere. Rezultate po vrsti poveži s črto. Dobil boš hišnega ljubljénčka, ki je prehodil več tisoč kilometrov, da se je vrnil domov.

prestopno leto = _____ dni

7 m = _____ dm

40 cm = _____ dm

4 cm 2 mm = _____ mm

3 dag = _____ g

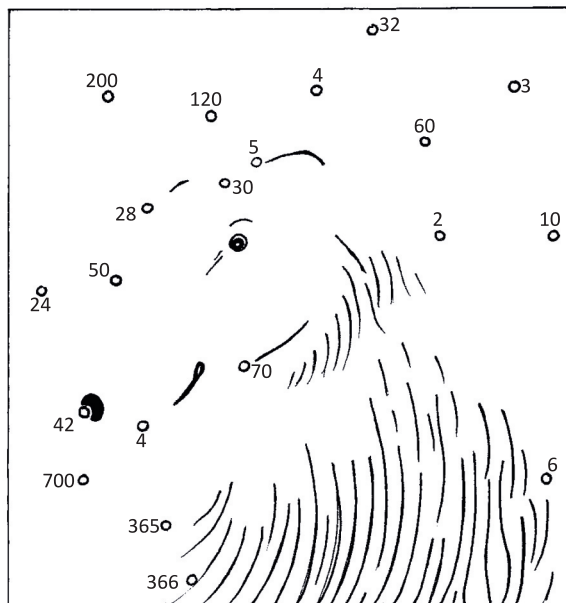
4 tedni = _____ dni

2 h = _____ min

35 dni = _____ tednov

6 dm + _____ dm = 1 m

600 dag = _____ kg



- 4 Reši besedilne naloge. Pobarvaj živali s pravilnimi rezultati. Ugotovil boš, katere živali se vedejo nenavadno pred bližajočim se potresom.

A V terariju so kače. Kače so v 7 terarijih. V vsakem terariju jih je enako mnogo. Vseh kač je 56. Koliko kač je v vsakem terariju?

Račun:

B Skrbnica živali nadzoruje težo volkca. Simonu pove: »Volkca bom vzela v naročje. Potem bova skupaj stopila na tehtnico. Jaz tehtam 87 kg.« Tehtnica kaže 94 kg. Koliko tehta volkec?

Račun:

C V živalskem vrtu je paznik Jakob živalim postregel s kosilom. Opicam je dal 8 šopov banan. V vsakem šopu je bilo po 6 banan. Tudi pande imajo rade banane. Tem je razdelil 3 šope. V vsakem šopu je bilo po 8 banan. Koliko banan je razdelil med živali?

Račun:

Č Vsako poletje se živali pomerijo na veliki olimpijadi. Na start se skupaj postavijo vran, krokodil in lev. Ker je razdalja dolga si živali vmes privoščijo tudi nekaj počitka. Izračunaj koliko počitka sta si privoščila vran in lev skupaj?

Račun:

	1. počitek	2. počitek
vran	15 min	60 min
krokodil	81 min	0 min
lev	1 min	28 min

