

Ime in priimek: _____

Število točk:



Reši račune. Pobarvaj črke nad pravilnimi rezultati. Črke po vrsti prepisi na črto. Pokazalo se ti bo drugo ime za vodovod, ki so ga gradili Rimljani.

$$\begin{array}{r} 2431 \\ + 3412 \\ \hline \end{array}$$

$$\begin{array}{r} 6475 \\ - 2135 \\ \hline \end{array}$$

$$\begin{array}{r} 10000 \\ - \quad 506 \\ \hline \end{array}$$

$$\begin{array}{r} 2351 \\ + 1329 \\ \hline \end{array}$$

$$\begin{array}{r} 6231 \\ + \quad \boxed{} \\ \hline 9854 \end{array}$$


$$\begin{array}{r} 7545 \\ - 1116 \\ \hline \end{array}$$

$$\begin{array}{r} 7654 \\ - \quad \quad 9 \\ \hline \end{array}$$

$$\begin{array}{r} 4235 \\ + 1375 \\ \hline \end{array}$$

Prepisuj v tej smeri \rightarrow

Z	A	K	E
4358	4340	3680	4430
V	I	A	E
7645	3632	3670	5610
L	D	U	P
7655	9494	5843	6249
K	T	S	O
6429	3623	9404	5600



Rešitev: _____



Reši račune. V sliki pobarvaj polja s pravilnimi rezultati. Če si pravilno izračunal in pobarval, boš spoznal, kakšno stranišče je imela večina Rimljanov.

$$241 \cdot 2$$

$$307 \cdot 4$$

$$243 \cdot 4$$

$$720 : 9 =$$

$$351 \cdot 3$$

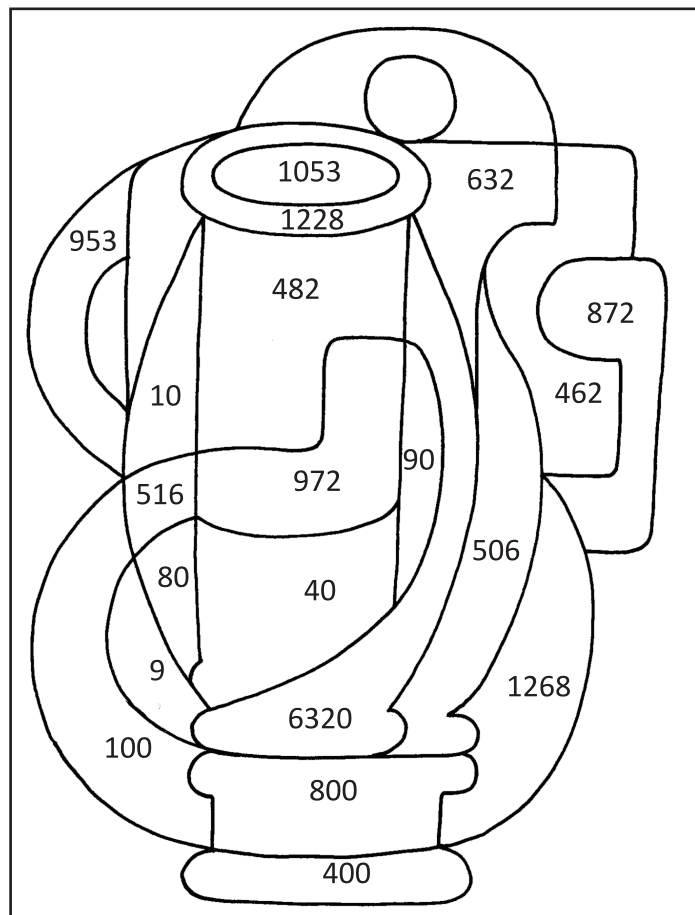
$$200 : 20 =$$

$$632 \cdot 10$$

$$810 : 9 =$$

$$43 \cdot 12$$

$$320 : 8 =$$





3

Reši besedilne naloge. Rešitve poišči v spodnji sliki in pravilne obkroži.

- A Kdor bi hotel prijezditi od enega konca Rimskega imperija do drugega, bi potreboval 100 dni. To je 5000 kilometrov. Zdaj so konjeniki na polovici poti. Koliko kilometrov so prepotovali do sedaj? Odgovor zapiši s številom.

Odgovor: _____

- B 2000 vojakov jezdi v koloni. Zadnji vojak prehiti predzadnjega. Na katerem mestu je sedaj? Odgovor zapiši s številom.


Odgovor: _____

- C V rimsko pristanišče Ostia sta pripluli iz severne Afrike dve ladji s sužnji. Na prvi ladji je bilo 1352 sužnjev. Vseh sužnjev je bilo 3350. Koliko sužnjev je bilo na drugi ladji?

Račun:

- Č Trgovec je pripeljal na trg 720 sužnjev. Prodal jih je 90. Koliko sužnjev lahko še proda?

Račun:



4

Spremeni mere. Rezultate po vrsti poveži s črto. Spoznal boš, s katero živaljo so se v areni bojevali sužnji in zločinci.

400 l = _____ hl

4 l 5 dl = _____ dl

4 kg = _____ dag

5 dag = _____ g

520 kg + 30 kg = _____ kg

300 mm + 5 mm = _____ mm

1 h - 5 min = _____ min

Mesec maj je ____ . mesec v letu.

