

Ime in priimek: _____

Število točk: _____

1

Izračunaj račune. Polja s pravilnimi rezultati v mreži tudi pobarvaj. Pobarvane črke po vrsti napiši na črto in izvedel-a boš, kako se imenuje zastrupitev z mesom, ki velja za eno najnevarnejših zastrupitev s hrano. Bacil te bolezni lahko preživi tudi v zaprti konzervi.

$$\begin{array}{r} 21653 \\ + 19866 \\ \hline \end{array}$$

$$\begin{array}{r} 7143 \\ + \square \\ \hline 21544 \end{array}$$

$$\begin{array}{r} 79111 \\ - 16213 \\ \hline \end{array}$$

$$\begin{array}{r} 51826 \\ - \square \\ \hline 13325 \end{array}$$

$$\underline{3256 \cdot 8}$$

$$\underline{245 \cdot 50}$$

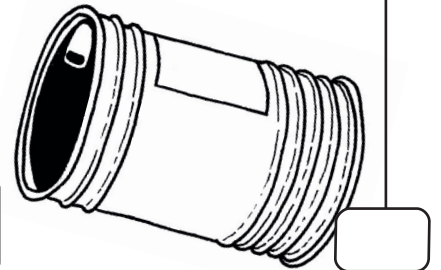
$$\underline{718 \cdot 24}$$

$$32922 : 9 =$$

$$13827 : 3 =$$

62898	26048	41429	17232
B	O	Š	T
63899	4508	41519	4609
K	A	U	L
14401	12250	12550	3658
I	Z	R	E
13301	46845	38501	16048
S	W	M	H

Rešitev: _____



2

Dopolni zaporedja in pobarvaj polja s pravilnimi odgovori. Pokazala se ti bo slika zoba, ki zraste šele po 17. letu – pravimo mu modrostni zob.

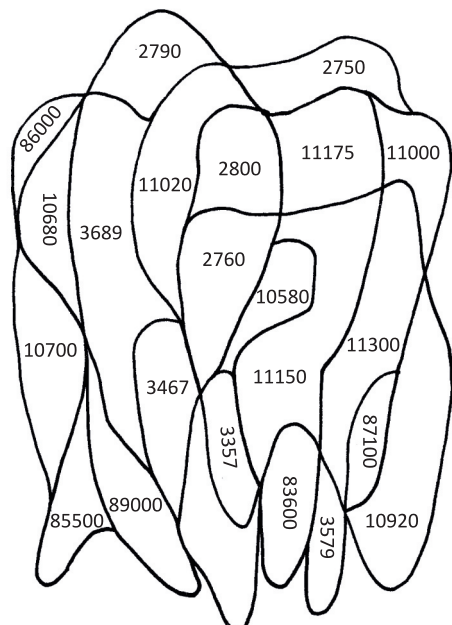
2740, _____, 2780, _____, 2820

11250, 11225, 11200, _____, _____

_____, 10910, 10800, 10690, _____

3245, 3356, _____, 3578, _____

_____, 87200, 85400, _____



3

Pretvori dane podatke v določene enote; v tabelo poleg rezultatov vpiši črke, ki jih najdeš zraven računov. Izvedel-a boš, kateri del prebavil se lahko vname, če ješ prevročo, premrzlo, pokvarjeno ali slabo prežvečeno hrano. Pazi, nekatere črke se lahko ponovijo.

$5400 \text{ g} = \underline{\hspace{2cm}} \text{ dag}$ **L**

$2 \text{ kg } 300 \text{ dag} = \underline{\hspace{2cm}} \text{ kg}$ **C**

$2 \text{ ar} = \underline{\hspace{2cm}} \text{ m}^2$ **E**

$9 \text{ dni} = 1 \text{ teden in } \underline{\hspace{2cm}} \text{ ur}$ **S**

$1 \text{ km } 45 \text{ m} = \underline{\hspace{2cm}} \text{ m}$ **Č**

$5 \text{ m } 40 \text{ dm} = \underline{\hspace{2cm}} \text{ dm}$ **Z**

$3 \text{ hl} = \underline{\hspace{2cm}} \text{ l}$ **D**

$5 \text{ let} = \underline{\hspace{2cm}} \text{ mesecev}$ **O**

$520 \text{ dl} = \underline{\hspace{2cm}} \text{ cl}$ **Ž**

$12 \text{ m}^2 = \underline{\hspace{2cm}} \text{ dm}^2$ **N**

$258 \text{ dm} = 25 \text{ m in } \underline{\hspace{2cm}} \text{ cm}$ **U**

$\text{julij} + \text{avgust} = \underline{\hspace{2cm}} \text{ dni}$ **I**

$25 \text{ dl} = \underline{\hspace{2cm}} \text{ l in } 50 \text{ cl}$ **A**

5200	200	540	60	300	1045	1200	2

48	540	80	90	1200	62	5	2

4

Reši obe besedilni nalogi. Na dnu strani pobarvaj sličice, ki predstavljajo vse tri pravilne rezultate.

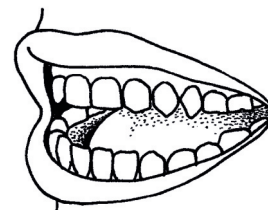
- A V Sloveniji vsako leto zdravijo 2500 ljudi zaradi razjede na želodcu. V letošnjem letu – se pravi v letu 2011 so jih doslej zdravili že 743. Koliko ljudi so torej skupaj zdravili v letih 2009, 2010 in 2011 zaradi želodčne razjede?

Račun:



- B Odrasli ljudje imajo 32 zob in sicer: 8 sekalcev, 4 podočnike, 8 ličnikov, 8 kočnikov, ostalo so modrostni zobje.

- Koliko modrostnih zob ima odrasla oseba?



- Koliko sekalcev in podočnikov ima skupina petih odraslih ljudi skupaj?

