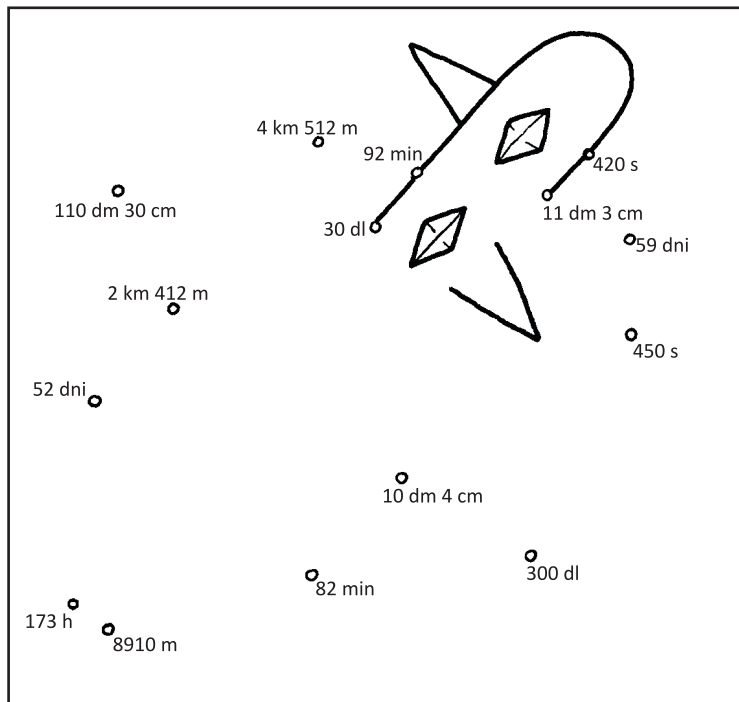


Ime in priimek: _____

Število točk: _____

1 Pretvori merske enote, kot je zahtevano. Poveži točke z rezultati po vrsti in dobi/a boš obris orožja, ki so ga pogosto uporabljali v spopadih s Turki.

- 7 min = _____ s
- 8 tednov 3 dni = _____ dni
- 113 cm = _____ dm _____ cm
- 8 km 910 m = _____ m
- 7 dni 5 h = _____ h
- 3 l = _____ dl
- 4512 m = _____ km _____ m
- 1 h 32 min = _____ min



Orožje na sliki se imenuje _____.

2 Izračunaj dane račune. Pobarvaj črke nad pravilnimi rezultati. Pobarvane črke po vrsti prepisi na črto. Dobil/a boš ime za cerkev, ki so jo vaščani utrdili zaradi pogostih turških vpadov.

65160 : 8 =

63721

- 36073

2398 · 27

1068 · 54

7096


+ 19845


+ 36073

Prepisuj v tej smeri

Z	C	T	E
7145	28538	8145	28539
A	B	U	N
64746	57672	65546	55018
K	O	E	R
9055	63014	55870	27648

Ta utrdba je _____.



3  Reši besedilne naloge. Rezultate prepisi v okvirčke desno in jih prečrtaj v slikah kresov. Ostala ti bo letnica, ko so Turki zadnjič oblegali Dunaj.

- A Prvi mesec je Dunaj oblegalo 18560 Turkov. Drugi mesec je prišlo še 2750 Turkov. Tretji mesec se je v domovino vrnilo 19680 Turkov. Koliko Turkov je ostalo pred Dunajem?


Račun:


- B Leta 1815 je Dunaj gostil evropski kongres. Sedaj je leto 2008. Koliko let je preteklo med dunajskim kongresom in sedaj?

Račun:

- C Pri prvi bitki so Turki zajeli 613 otrok za janičarje. V drugi bitki so jih zajeli 205 manj kot v prvi. V zadnji bitki pa so zajeli 177 otrok več kot v prvi bitki. Koliko otrok so za janičarje zajeli v vseh treh bitkah skupaj?

Račun:



4  Reši spodnje račune. Črke ob računih prepisi v okenca pod ustrezne rezultate. Če bo pravilno rešeno, izveš ime, ki se je uporabljalo za priseljence na našem območju v času turških vpadov.

$\frac{1}{10}$ od 4200 = _____ **S**


560 : 70 = _____ **I**

$\frac{1}{9}$ od 81 = _____ **U**

350 : 50 = _____ **K**

$\frac{2}{3}$ od 240 = _____ **K**

90 · _____ = 540 **O**



Rešitev:

9	420	7	6	160	8