

Ime in priimek:

Število točk:

1

Reši spodnje račune. Črke ob računih prepisi v okence pod ustrezne rezultate. Če bo pravilno rešeno, boš izvedel, v čem so bili Rimljani res izvrstni.

$$\begin{array}{r} 2403 \\ + 5113 \\ \hline \end{array}$$

$$\begin{array}{r} 8246 \\ - 1130 \\ \hline \end{array}$$

$$\begin{array}{r} 2504 \\ + \square \\ \hline 10000 \end{array}$$

$$\begin{array}{r} 3421 \\ + 3659 \\ \hline \end{array}$$

$$\begin{array}{r} 9539 \\ - 2042 \\ \hline \end{array}$$

$$\begin{array}{r} 8959 \\ - 1494 \\ \hline \end{array}$$

$$\begin{array}{r} 2478 \\ + \square \\ \hline 9888 \end{array}$$

$$\begin{array}{r} 9350 \\ - \square \\ \hline 1696 \end{array}$$



7496	7497	7516	7465	7410	7654	7080	7116

Rimljani so bili izvrstni:

2

Pretvori merske enote. Rezultate po vrsti poveži s črto. Spoznal boš metalni stroj katapult, s katerim so Rimljani prožili kamenje proti obzidju in s katerim so izstreljevali goreče bakle proti lesenim vratom.

200 l = _____ hl

4 l 8 dl = _____ dl

5 kg = _____ dag

9 dag = _____ g

620 kg + 80 kg = _____ kg


500 mm + 8 mm = _____ mm

2 h - 40 min = _____ min

Avgust je ____ mesec v letu.

3 cm 2 mm = _____ mm

Prestopno leto ima _____ dni.





3

Reši račune. V sliki pobarvaj polja s pravilnimi rezultati. Če si pravilno izračunal in pobarval, boš spoznal, katera žival naj bi Rimljanom prinašala srečo.

$$\underline{321 \cdot 2}$$

$$\underline{235 \cdot 2}$$

$$\underline{25 \cdot 11}$$

$$\underline{729 \cdot 10}$$

$$\underline{252 \cdot 3}$$

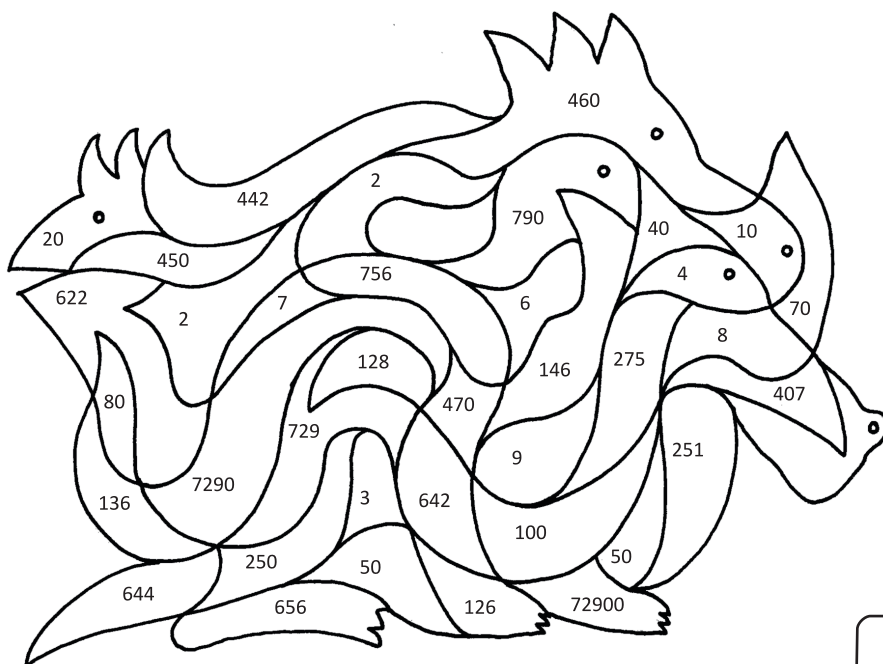
$$\underline{34 \cdot 4}$$

$$640 : 8 =$$

$$500 : 5 =$$

$$490 : 70 =$$

$$40 : \underline{\quad} = 10$$




4

Reši besedilne naloge. Rešitve poišči v spodnji sliki in pravilne obkroži.

- A Ob vsaki rimski cesti so graditelji postavili miljne kamne tako, da so popotniki vedeli, kako daleč so že. Rimska milja je merila 1000 korakov. Popotniki so prepotovali šest milj. Koliko korakov je to? Odgovor zapiši s številom.

Odgovor: _____



- B Popotniki želijo v enem dnevu prehoditi 8 milj. Sedaj so na polovici poti. Koliko korakov so prehodili? Odgovor zapiši s številom.

Odgovor: _____

- C Trgovci so na rimski tržnici vsak dan prodajali sužnje. Vsak dan so jih prodali enako število. V enem dnevu so prodali 9 sužnjev. Koliko sužnjev so prodali v treh tednih?

Račun:



- Č Skupina turistov si je ogledala znamenito rimsko mesto Pompeji. Z ogledom so pričeli ob 17. 10. Ko so z ogledom zaključili, je bila ura 20.10. Koliko minut so porabili za ogled rimskega mesta?

Račun:

