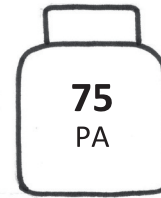


Ime in priimek:

Število točk:

1

Izračunaj račune in prepisi besedo napisano v lončku medu pod pravi rezultat. Dobil boš uganko o živali, ki ima rada med.



$$27 + 2 = \square$$

$$36 - 2 = \square$$

$$45 + 4 = \square$$

$$17 - 9 = \square$$

$$9 + 7 = \square$$

$$51 + 6 = \square$$

$$69 - 7 = \square$$

$$78 - 3 = \square$$

$$81 + 5 = \square$$

$$99 - 8 = \square$$

$$66 + 2 = \square$$

$$77 - 6 = \square$$

$$53 - 1 = \square$$

$$84 + 3 = \square$$

2

Izračunaj račune. Rezultate poišči v sliki in polja pobarvaj.

$$63 + \square = 68$$

$$48 - \square = 41$$

$$\square + 51 = 55$$

$$58 + \square = 60$$

$$\square - 3 = 26$$

$$74 - \square = 71$$

$$\square - 3 = 35$$


$$82 + \square = 88$$

$$91 + \square = 99$$

$$\square - 1 = 55$$


$$\square - 2 = 44$$

$$\square + 80 = 90$$




3

Obkroži števila, ki so **manjša** od števila na banani, ki jo drži opica v roki.

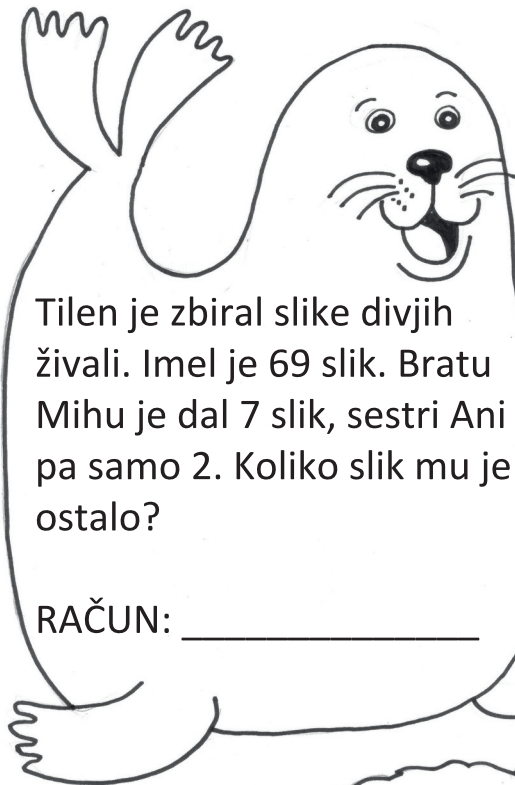


Obkroži števila, ki so **večja** od števila na banani, ki jo drži opica v roki.



4

Reši naloge. Rezultati so napisani v najljubši hrani naših 4 junakov.
Obkroži samo pravilne.

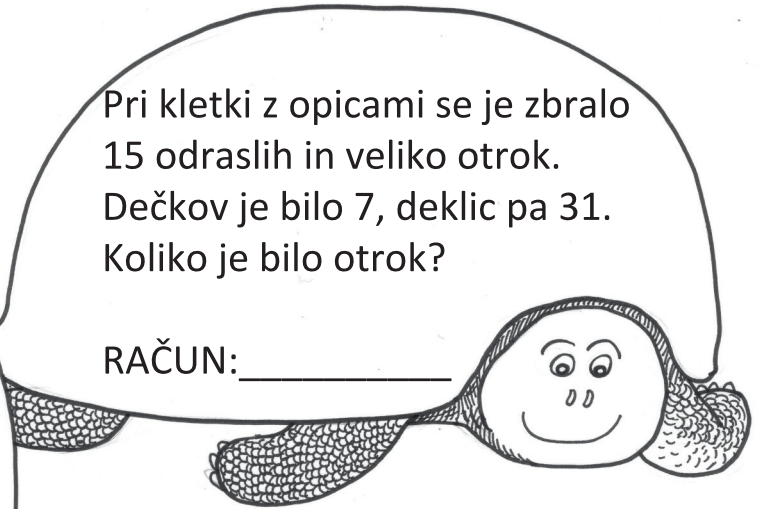


Tilen je zbiral slike divjih živali. Imel je 69 slik. Bratu Mihi je dal 7 slik, sestri Ani pa samo 2. Koliko slik mu je ostalo?

RAČUN: _____

Pri kletki z opicami se je zbralo 15 odraslih in veliko otrok. Dečkov je bilo 7, deklic pa 31. Koliko je bilo otrok?

RAČUN: _____



Opica Mici je splezala na drevo 12 krat, opica Neli pa 4 krat manj. Kolikokrat sta **obe** opici splezali do vrha drevesa?

RAČUN: _____

Po ribniku plava 15 rac in labodov. Koliko je rac, če je labodov 6?

RAČUN: _____

