

Ime in priimek:

Število točk:

1

**Reši račune.** V legendi poišči pravilne rezultate in **pobarvaj črke** pod njimi. Izvedel boš, kdo je na sliki.

$81 - 24 = \underline{\hspace{2cm}}$

$93 - 6 - 8 = \underline{\hspace{2cm}}$

$53 + \underline{\hspace{2cm}} = 78$

$65 - \underline{\hspace{2cm}} = 29$

$88 + 8 = \underline{\hspace{2cm}}$

$93 - 15 = \underline{\hspace{2cm}}$

$16 + 48 + 35 = \underline{\hspace{2cm}}$

$37 + 30 = \underline{\hspace{2cm}}$

$\underline{\hspace{2cm}} - 48 = 37$

$100 - 3 = \underline{\hspace{2cm}}$

$37 + 43 = \underline{\hspace{2cm}}$

$28 + 17 = \underline{\hspace{2cm}}$

63	43	25	24	99	64	11	97	78	7	80	89	85	28	45
M	D	Č	L	E	P	K	B	E	F	L	O	A	B	R

96	27	36	57	5	67	93	79
P	M	E	T	I	E	H	R



Prostor za računanje na dolg način:

2

**Izračunaj. Pobarvaj** polja s pravilnimi rezultati. Prišel boš do sladice, s katero se čebelar Peter rad sladka. **Obkroži jo.**

$8 \cdot 2 = \underline{\hspace{2cm}}$

$8 \cdot 4 = \underline{\hspace{2cm}}$

$7 \cdot 3 = \underline{\hspace{2cm}}$

$\underline{\hspace{2cm}} \cdot 2 = 20$

$\underline{\hspace{2cm}} \cdot 5 = 30$

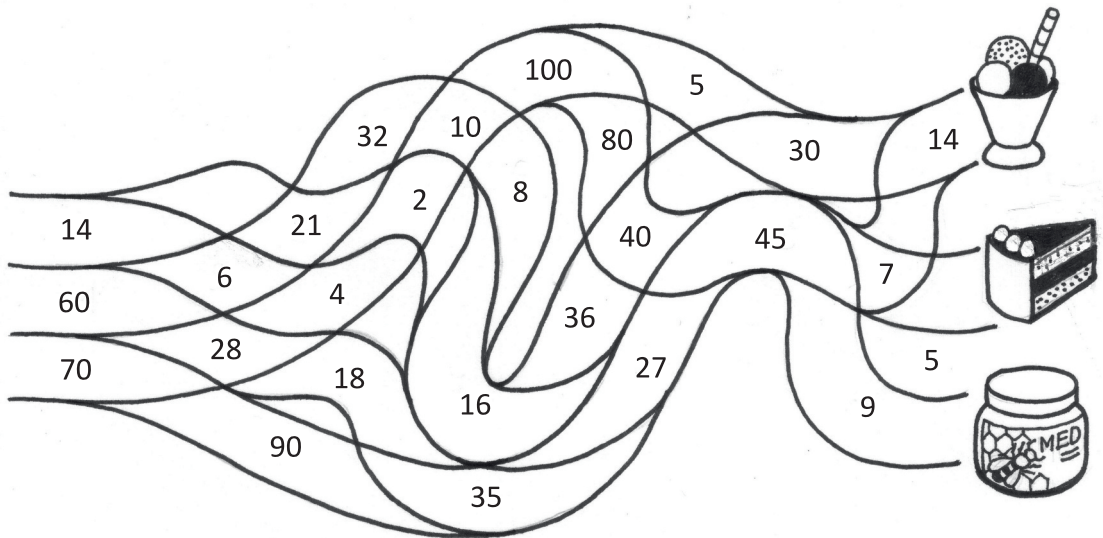
$\underline{\hspace{2cm}} \cdot 4 = 32$

$6 \cdot 10 = \underline{\hspace{2cm}}$

$9 \cdot 5 = \underline{\hspace{2cm}}$

$9 \cdot 3 = \underline{\hspace{2cm}}$

$\underline{\hspace{2cm}} \cdot 10 = 90$



3

**Spremeni mere.** Pravilne rezultate **po vrsti poveži s črto.** Prikazala se ti bo žival, ki je iz čebelnjaka polizala ves med.

1 10 m = \_\_\_\_\_ dm

2 5 m 2 dm = \_\_\_\_\_ dm

3 pol m = \_\_\_\_\_ cm

4 30 cm = \_\_\_\_\_ dm

5 3 dm 8 cm = \_\_\_\_\_ cm

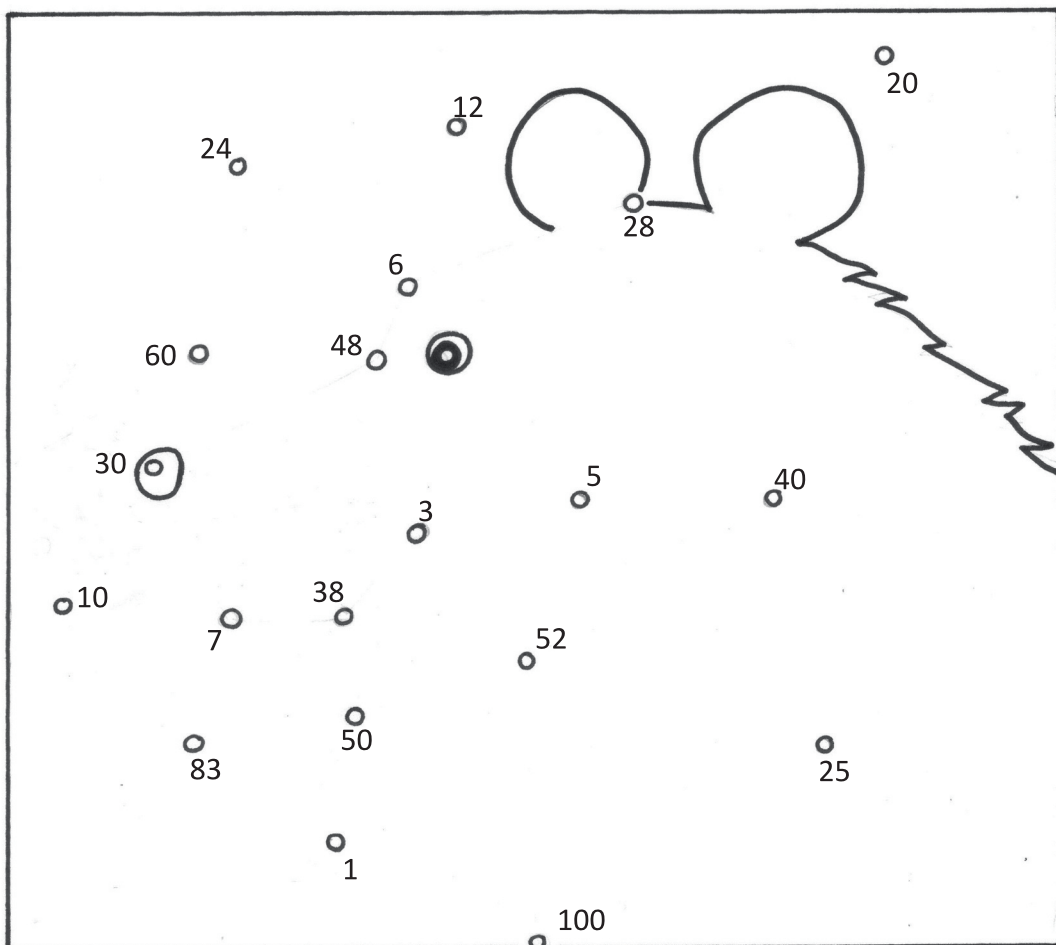
6 1 teden = \_\_\_\_\_ dni

7 pol ure = \_\_\_\_\_ min

8 2 dni = \_\_\_\_\_ ur

9 pol leta = \_\_\_\_\_ mesecev

10 4 tedni = \_\_\_\_\_ dni



4

**Reši naloge. Obkroži srčke s pravilnimi rezultati.**

Teta Betka je pri čebelarju Petru kupila 3 lončke medu in 2 steklenički propolisa. Lonček medu stane 10 €, steklenička propolisa pa 3 €.

**Koliko je teta Betka plačala Petru za vse skupaj?**

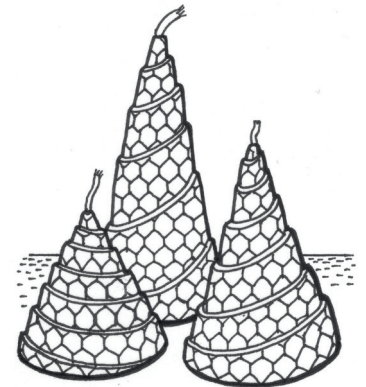
Račun: \_\_\_\_\_



Čebelar Peter je iz čebeljega voska izdelal sveče. Dopoldan je izdelal 3 sveče, popoldan pa štirikrat več sveč kot dopoldan.

**Koliko sveč je izdelal v celem dnevu?**

Račun: \_\_\_\_\_



Reši še tole čebelarsko nalogo:

25 lončkom cvetličnega medu prištej 57 lončkov kostanjevega medu in 10 lončkov lipovega medu. Nato odštej 3 razbite lončke.

**Koliko lončkov še ostane?**

Račun: \_\_\_\_\_

