

Ime in priimek:

Število točk:

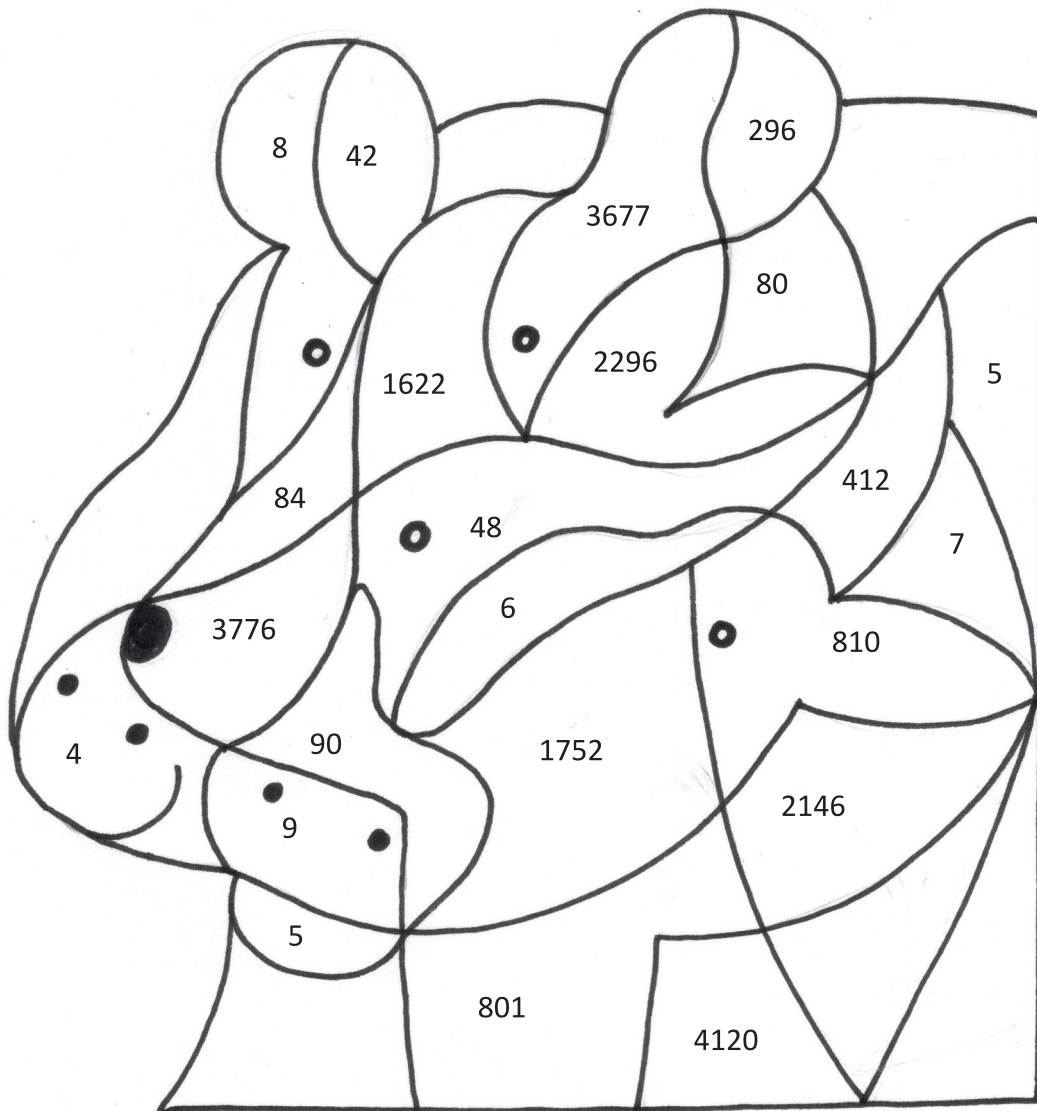
1

Reši spodnje račune. Rezultatom poišči enaka števila v sliki in polja pobarvaj. Spoznal boš rastlinojedo žival. Ime živali napiši na spodnjo črto.

\_\_\_\_\_ : 6 = 8      \_\_\_\_\_ · 9 = 54      720 : 8 = \_\_\_\_\_

438 · 4      89 · 9      206 · 20      64 · 59      328 · 7

Ime živali: \_\_\_\_\_



2

Pretvori merske enote. Izračunaj dele celot. S črto poveži števila po vrsti tako, kot si sledijo rezultati računov. Prikazala se ti bo žival, ki je pogost obiskovalec drevesnih krošenj.

1  $5 \text{ l } 15 \text{ dl} = \underline{\hspace{2cm}} \text{ dl}$

6  $3 \text{ min } 16 \text{ s} = \underline{\hspace{2cm}} \text{ s}$

2  $40 \text{ dm} = \underline{\hspace{2cm}} \text{ cm}$

7  $4 \text{ tedni} = \underline{\hspace{2cm}} \text{ dni}$

3  $20 \text{ mm} + \underline{\hspace{2cm}} \text{ mm} = 10 \text{ cm}$

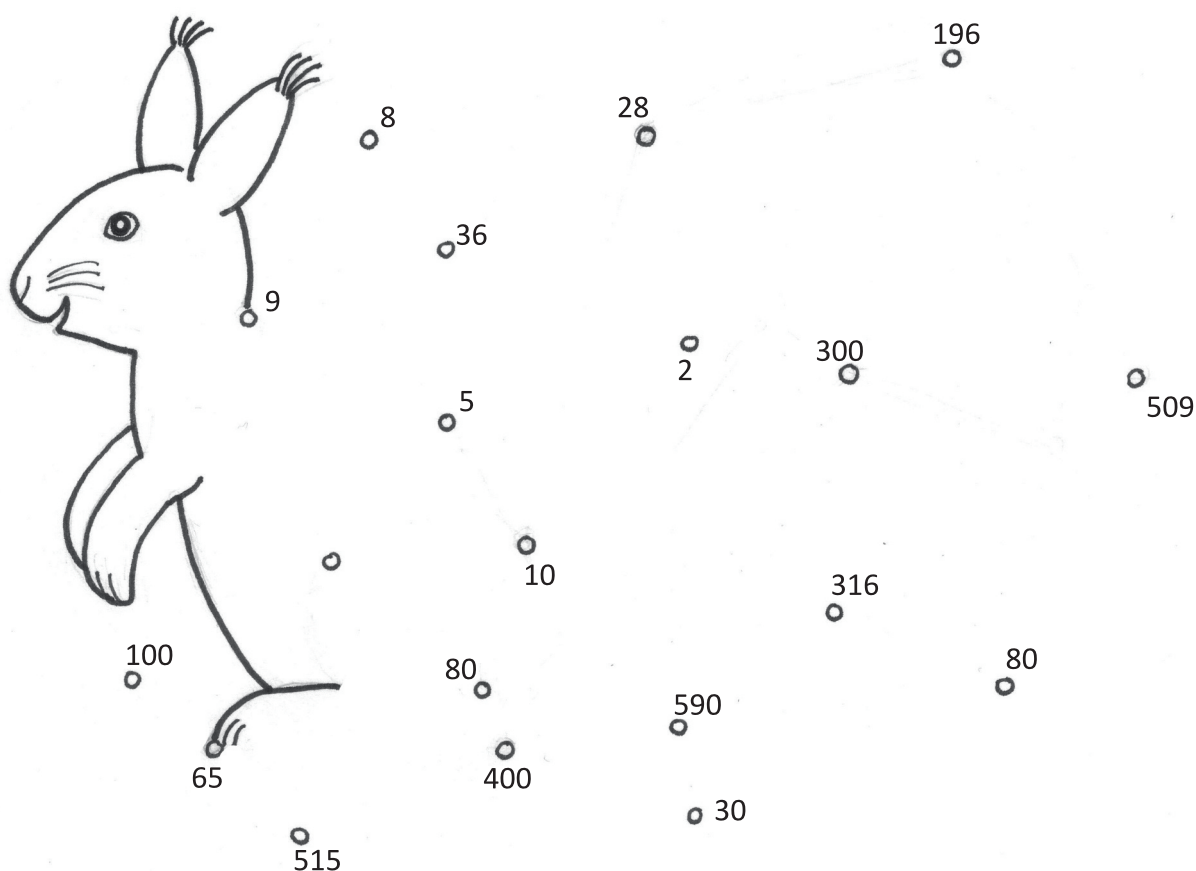
8  $\frac{2}{4}$  od 20 =  $\underline{\hspace{2cm}}$

4  $3 \text{ kg} = \underline{\hspace{2cm}} \text{ dag}$

9  $\frac{1}{2}$  od 10 =  $\underline{\hspace{2cm}}$

5  $5 \text{ kg } 9 \text{ dag} = \underline{\hspace{2cm}} \text{ dag}$

10 ena četrtnina od 36 =  $\underline{\hspace{2cm}}$



3

Reši račune. V tabeli poišči pravilne rezultate in pobarvaj črke pod njimi. Črke po vrsti prepisi na spodnjo črto. Dobil boš ime za vrsto praproti.

$$\begin{array}{r} 10000 \\ - 4054 \\ \hline \end{array}$$

$$\begin{array}{r} 7689 \\ + 1341 \\ \hline \end{array}$$

$$\begin{array}{r} 7620 \\ - 2172 \\ \hline \end{array}$$

$$\begin{array}{r} 2468 \\ + \boxed{\phantom{0000}} \\ \hline 9788 \end{array}$$

$$\begin{array}{r} 7630 \\ - \boxed{\phantom{0000}} \\ \hline 1897 \end{array}$$

$$\begin{array}{r} 478 \\ + 8838 \\ \hline \end{array}$$

$$\begin{array}{r} \boxed{\phantom{0000}} \\ - 699 \\ \hline 1235 \end{array}$$

$$\begin{array}{r} 2803 \\ + 4023 \\ \hline \end{array}$$

$$\begin{array}{r} 7766 \\ - 491 \\ \hline \end{array}$$

$$\begin{array}{r} 4789 \\ + 98 \\ \hline \end{array}$$



9030 R	9871 U	2351 P	9300 O
7320 E	5448 B	1934 R	9460 G
4887 E	9316 N	6826 J	7520 F
5946 A	5733 Č	7275 A	1045 L

Geslo:

\_\_\_\_\_

4

Reši besedilne naloge. Obkroži besedo nad pravilnim rezultatom.  
Prepiši besede po vrsti na spodnje črte. Izvedel boš, kaj je KLOROFIL.

Sova lahko poje v eni noči 4 manjše glodavce. Koliko glodavcev poje 5 sov v mesecu aprilu?

Račun: \_\_\_\_\_

RODOVITNA	ZELENO	DREVO	ŽIVAL
20	600	620	9



Trije prijatelji so med počitnicami nabrali borovnice. Prvi dan so jih nabrali 8 litrov, drugi dan pa 16 litrov. Ko so delo zaključili, so borovnice razdelili. Vsak je dobil enako. Koliko litrov borovnic je vsak odnesel domov?

Račun: \_\_\_\_\_

BARVILO	PLAST	Z	V
8	72	24	2



Les hrasta so nekoč uporabljali za gradnjo ladij. Za veliko jadrnico so potrebovali kar 2546 hrastovih dreves, zato so posekali kar cele gozdove. Koliko hrastovih dreves so potrebovali za izdelavo 3 jadrnic?

Račun: \_\_\_\_\_

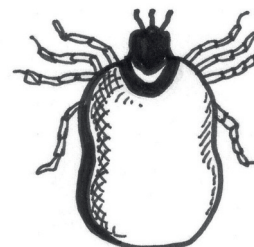
IGLICAMI	V	TAL	GOZDNIH
2549	7638	7528	2509



V ljubljanski regiji je leta 2011 zbolelo za klopnim meningitisom 87 ljudi. Največ jih je zbolelo leta 2006, kar 137. Koliko ljudi je zbolelo za klopnim meningitisom v obeh letih skupaj?

Račun: \_\_\_\_\_

SLOJ	RASTLINAH	DEBEL	TLEH
4017	224	50	127



Klorofil je \_\_\_\_\_ .

