

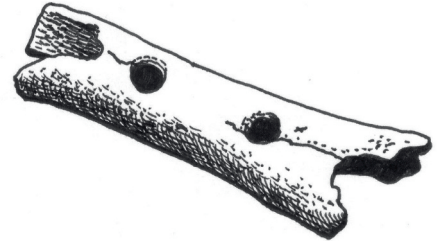
Ime in priimek:

Število točk:

- 1 Izračunaj račune. Rezultatom poišči enaka števila v sliki in polja pobarvaj. Spoznal boš, iz kosti katere živali je bilo narejeno najstarejše glasbilo na svetu.

$$\underline{456 \cdot 20}$$

$$\underline{75 \cdot 9}$$



$$56 : 8 =$$


$$54 : 6 =$$

$$\underline{306 \cdot 8}$$

$$\underline{85 \cdot 66}$$

$$\underline{98 \cdot 7}$$

$$\underline{223 \cdot 2}$$



2

Izračunaj račune. Rezultatom poišči enaka števila v poljih. Pobarvaj črke v teh poljih. Pobarvane črke po vrsti prepisi na spodnje črtice. Izvedel boš, kako se je imenovala jama, v kateri so našli prvo piščal.

$$\begin{array}{r} 632 \\ - 90 \\ \hline \end{array}$$

$$\begin{array}{r} 1009 \\ - 265 \\ \hline \end{array}$$

$$\begin{array}{r} 8075 \\ - 523 \\ \hline \end{array}$$

$$\begin{array}{r} 6753 \\ - 2212 \\ \hline \end{array}$$

$$\begin{array}{r} 4326 \\ + \boxed{} \\ \hline 6934 \end{array}$$

$$\begin{array}{r} 5514 \\ + 3594 \\ \hline \end{array}$$

$$\begin{array}{r} 2876 \\ + 3946 \\ \hline \end{array}$$

$$\begin{array}{r} 312 \\ + 4534 \\ \hline \end{array}$$

$$\begin{array}{r} \boxed{} \\ + 233 \\ \hline 8794 \end{array}$$



7525	744	9108	8262
G	D	I	S
7552	2608	8561	6822
V	J	E	B
5420	425	4846	2802
O	F	A	S
454	542	1089	4541
K	B	F	E

Jama se imenuje:



3

Spremeni mere. Rezultate po vrsti poveži s črto. Začni pri *.
Dobil boš Ribo Faroniko, o kateri poje ljudska pesem.

1 3 h = _____ min

6 1 l + 8 l = _____ dl

2 8 m = _____ dm

7 6 tednov = _____ dni

3 56 dni = _____ tednov

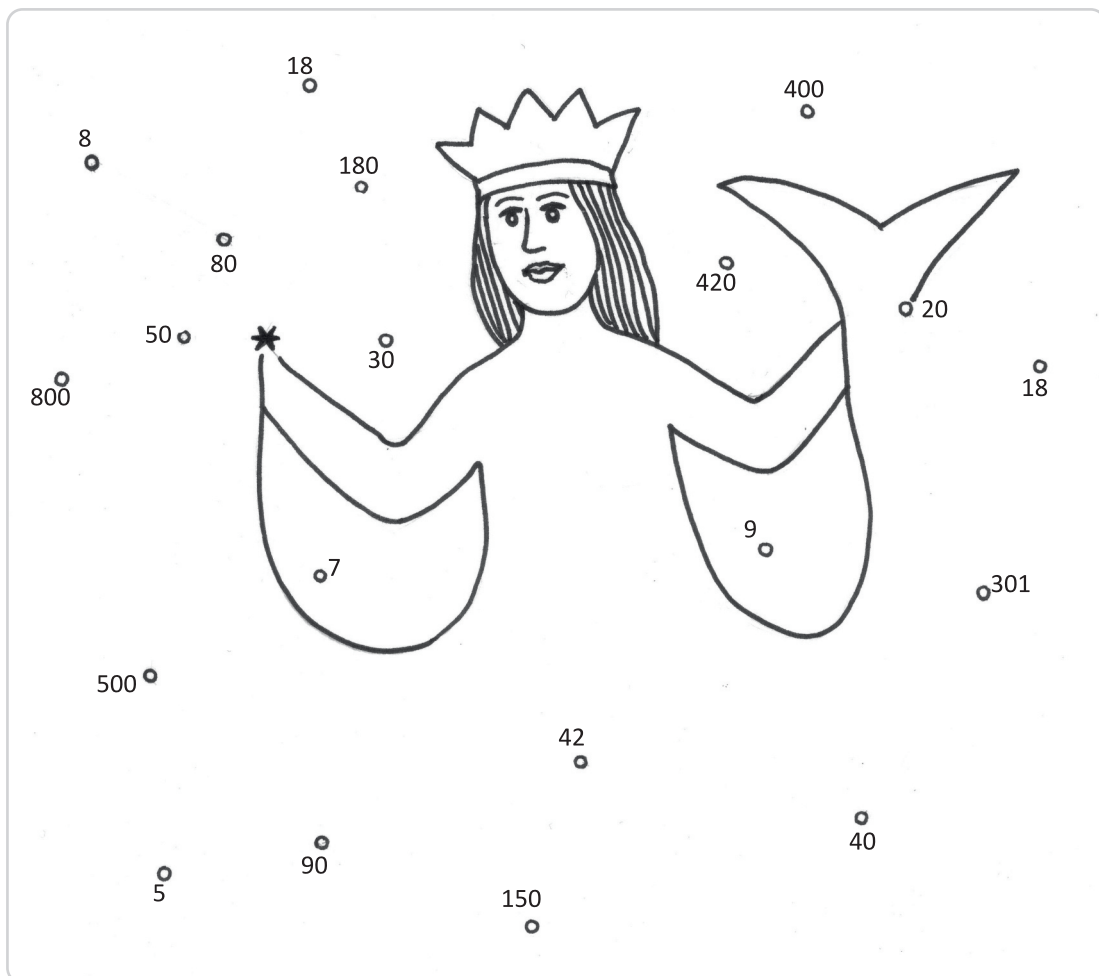
8 4 l = _____ dl

4 50 dm + _____ dm = 10 m

9 3 kg 1 dag = _____ dag

5 5 kg = _____ dag

10 200 cm = _____ dm




4

Reši besedilne naloge. Obkroži glasbila s pravilnimi rezultati. Ugotovil boš, katera so indijanska glasbila.

V koncertni dvorani so imeli posebno tribuno, na kateri je bilo 78 vrst. V vsaki vrsti pa po 8 stolov. Koliko gledalcev je lahko sedelo?

R: _____



Komorni orkester šteje 36 glasbenikov. Razdeljeni so v štiri skupine podobnih instrumentov (godala, trobila, pihala, tolkala). Koliko glasbenikov šteje posamezna skupina?

R: _____



Jakob Petelin Kranjec, slovenski skladatelj, se je rodil leta 1550. Umrl je leta 1591. Koliko let je živel?

R: _____



Mozartovo opero Čarobna piščal si je prvi dan ogledalo 215 učencev, drugi dan 67 več, tretji dan pa 71 manj kot drugi dan. Koliko učencev si je v treh dneh ogledalo opero?

R: _____

