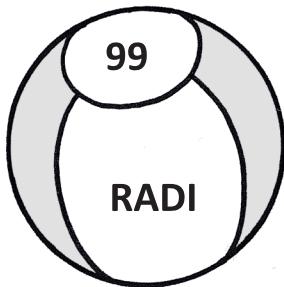
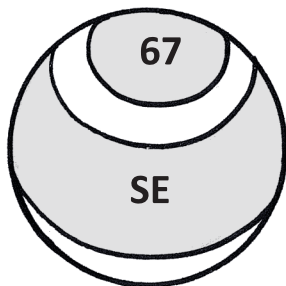
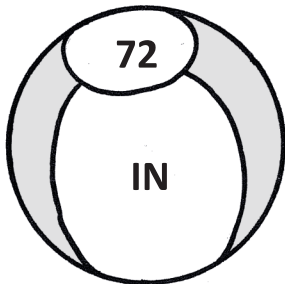
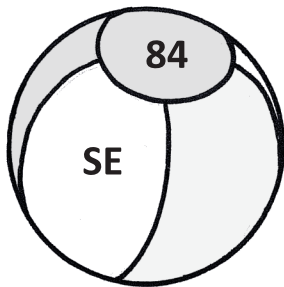



Ime in priimek:

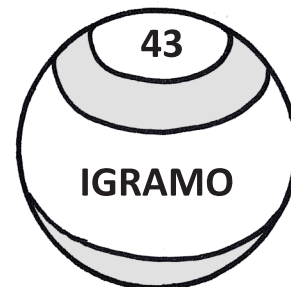
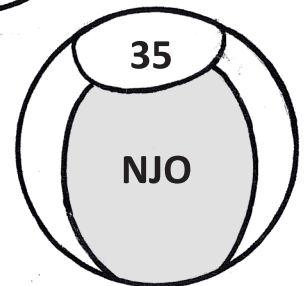
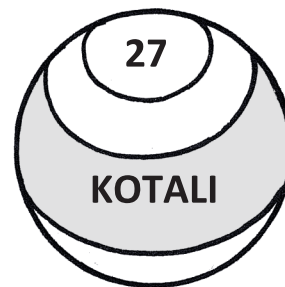
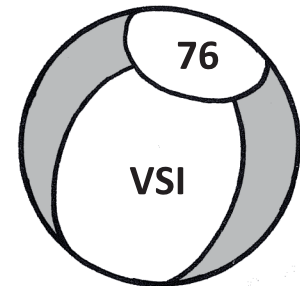
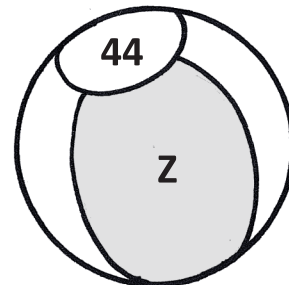
Število točk:



Preberi števila in jih poišči na žogah. Besede, napisane v žogah, zapiši pod odgovarjajoče število. Sestavi boš uganko o prijateljici odraslih in otrok.



oseminštirideset
dvainsedemdeset
štiriinosemdeset
sedemindvajset
štiriinštirideset
petintrideset
sedeminšestdeset
devetindevetdeset
triinštirideset
šestinsedemdeset



2

Reši račune. Pobarvaj črke pod pravilnimi rezultati. Po vrsti jih prepisi na spodnje črte. Spoznal boš, kaj imajo dečki najraje.

35 + _____ = 39

_____ + 21 = 27

_____ + 81 = 84

67 - _____ = 60

_____ - 2 = 36

59 - _____ = 54

71 + _____ = 79


_____ - 2 = 81

_____ - 5 = 63

prepisuj v tej smeri →

83	13	3	39	14
I	K	G	O	Š
37	6	84	5	67
A	R	O	E	P
38	16	15	86	4
Z	R	D	B	Ž
17	18	8	7	81
O	L	O	G	J
9	19	68	82	69
K	A	O	K	A

Dečki imajo najraje _____.



3

Izračunaj račune. Rezultate poišči v sliki in polja pobarvaj. Izvedel boš za enega od športov z žogo.

$26 + 2 = \underline{\hspace{2cm}}$

$9 + 9 = \underline{\hspace{2cm}}$

$68 + 2 = \underline{\hspace{2cm}}$

$34 - 3 = \underline{\hspace{2cm}}$

$16 - 9 = \underline{\hspace{2cm}}$

$92 + 7 = \underline{\hspace{2cm}}$

$86 - 3 = \underline{\hspace{2cm}}$

$50 - 4 = \underline{\hspace{2cm}}$

$9 + 7 = \underline{\hspace{2cm}}$

$99 - 7 = \underline{\hspace{2cm}}$

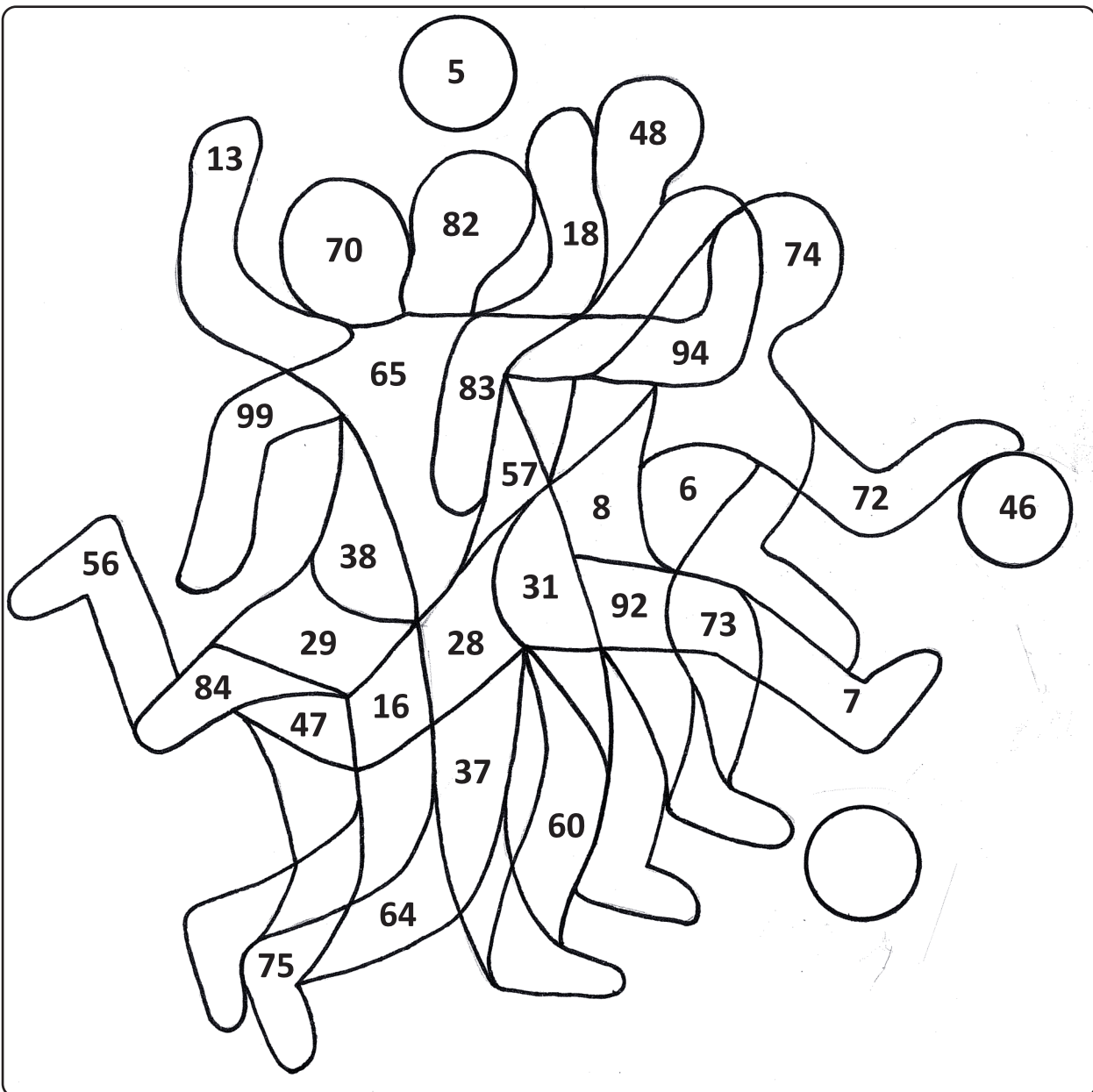
$51 + 6 = \underline{\hspace{2cm}}$

$41 + 6 = \underline{\hspace{2cm}}$

$79 - 6 = \underline{\hspace{2cm}}$

$69 - 4 = \underline{\hspace{2cm}}$

$89 - 5 = \underline{\hspace{2cm}}$



4

Reši naloge. Na športnih majčkah so napisani rezultati. Obkroži vse, ki so pravilni.

A Matic je imel 69 kart za nogometno tekmo. Na koncu mu je ostalo še 6 neprodanih kart. Koliko kart je prodal?



Račun: _____

B V telovadnici je 10 igralcev igralo košarko, 6 jih je sedelo in gledalo s klopi. Zunaj na igrišču je 22 igralcev igralo nogomet. Kje je bilo več ljudi, v telovadnici ali zunaj? Ne pozabi na račun.



Račun: _____


Več ljudi je bilo _____.

C Jure in Bine se hvalita. Jure: »Zabili smo 3 gole.«
Bine: »To ni nič. Mi smo jih dali še 5 več kot oni.«
Koliko golov so dali vsi skupaj?



Račun: _____

Č Na stadionu je potekala nogometna tekma. Na parkirišču je bilo 12 koles, 47 avtov, motorjev je bilo za 8 manj kot koles. Koliko koles in motorjev je bilo na parkirišču?



Račun: _____

