






Ime in priimek:

Število točk:

**1** Pisateljica Anuška je napisala 4 knjige. Pomagaj ji prešteti liste, da bo vedela, koliko strani je napisala. Števila z vseh zadnjih listov prepiši v knjigo.





3

Reši račune. Pobarvaj črke pod pravilnimi rezultati in jih po vrsti prepisi na črtice. Izvedel/a boš, iz katere vrste papirja je izdelana redovalnica, v katero je učiteljica Cecilija vpisala matematične ocene.

$1 \cdot 10 = \underline{\hspace{2cm}}$

$6 \cdot 5 = \underline{\hspace{2cm}}$

$3 \cdot 2 = \underline{\hspace{2cm}}$

$8 \cdot 10 = \underline{\hspace{2cm}}$

$8 \cdot 4 = \underline{\hspace{2cm}}$

$2 \cdot 4 = \underline{\hspace{2cm}}$

$5 \cdot 4 = \underline{\hspace{2cm}}$

$9 \cdot 2 = \underline{\hspace{2cm}}$

$6 \cdot 10 = \underline{\hspace{2cm}}$

$7 \cdot 5 = \underline{\hspace{2cm}}$

Prepisuj v tej smeri →

1	10	0	25	30
B	D	T	O	O
6	5	80	81	27
K	A	U	L	E
32	23	8	12	20
M	K	E	P	N
19	18	16	60	35
R	T	Ž	N	I



Uporabila je \_\_\_\_\_ papir.

4

Reši naloge. Pravilne rezultate poišči in obkroži v spodnjem časopisu.

- A Učenci so izdelovali mape. Črt je porabil 34 kosov kartona, Davor 12 kosov lepenke in Evgen 29 kosov valovite lepenke.

**Koliko kosov papirnih gradiv so porabili vsi učenci skupaj?**

Račun: \_\_\_\_\_



- B Petošolci so zbirali star časopisni papir. Filip je zbral 52 kilogramov papirja.

**Koliko kilogramov papirja je zbral Florjan, če sta oba učenca skupaj zbrala 98 kilogramov?**

Račun: \_\_\_\_\_



- C Dekleta iz 5. razreda so šla na taborjenje. Gabi je s seboj vzela 1 paket z 10 rolicami, Gaja pa 2 paketa s 5 rolicami toaletnega papirja.

**Koliko rolic toaletnega papirja sta skupaj vzeli dekleti?**

Račun: \_\_\_\_\_



NOVICE OD TU....		IN TAM....	
10	20	46	75
66		50	
100	17	65	69

