

Ime in priimek: _____

Število točk: _____



Spremeni mere. V tabeli pobarvaj črke pod pravilnimi rezultati. Na koncu črke po vrsti prepisi v polje za rešitev. Če boš mere pravilno spremenil in račune pravilno izračunal, boš izvedel ime divje zelenjave z blagim okusom po česnu.

pol leta = _____ mesecev

1 h - 15 min = _____ min

Julij je _____ mesec v letu.

8 l = _____ dl

pol litra = _____ dl

220 dag + 25 dag = _____ dag


_____ dni + 4 dni = 3 tedni

30 cm = _____ dm



50	80	245	300
U	Č	E	M
3	12	6	450
S	I	N	Ž
8	7	225	17
L	O	B	V
5	45	18	16
K	A	T	J

Rešitev: _____



2

Reši račune. V sliki pobarvaj polja s pravilnimi rezultati.
Če boš pravilno izračunal in pobarval, boš spoznal divjo rastlino, sorodnico sončnice, ki se imenuje topinambur.

$$\begin{array}{r} 222 \\ + 452 \\ \hline \end{array}$$

$$\begin{array}{r} 762 \\ - 131 \\ \hline \end{array}$$

$$\begin{array}{r} 597 \\ - 213 \\ \hline \end{array}$$

$$\begin{array}{r} 219 \\ + 107 \\ \hline \end{array}$$

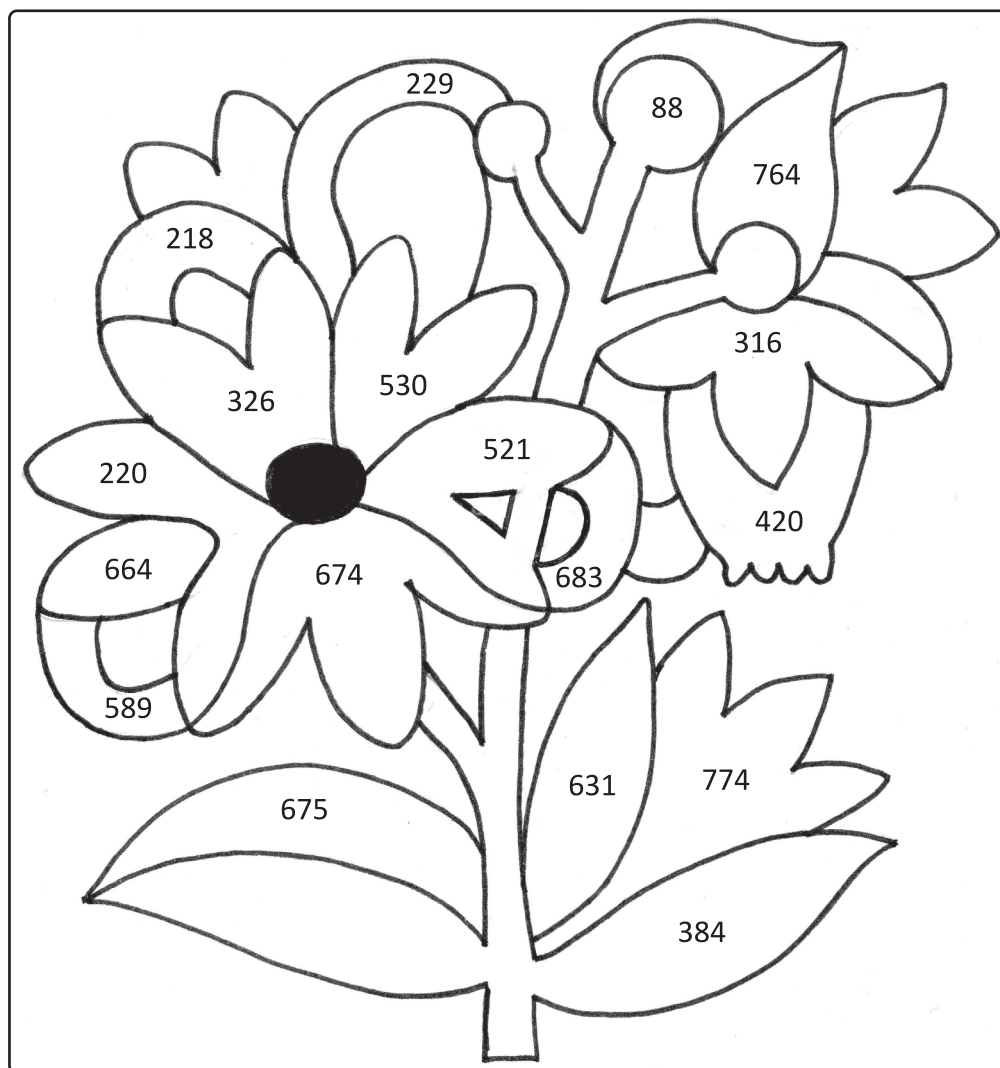
$$\begin{array}{r} 351 \\ + 179 \\ \hline \end{array}$$

$$\begin{array}{r} 721 \\ - 501 \\ \hline \end{array}$$

$$\begin{array}{r} 913 \\ - 249 \\ \hline \end{array}$$

$$\begin{array}{r} 291 \\ + \boxed{} \\ \hline 379 \end{array}$$

$$\begin{array}{r} 721 \\ - \boxed{} \\ \hline 200 \end{array}$$



3

Črko ob računu prepisi k ustreznemu rezultatu v kvadratu.
 Če boš pravilno izračunal, boš spoznal gozdno zelenjavo, grenko sorodnico žajblja.

$3 \cdot 7 = \underline{\quad\quad} \quad \text{a}$

$0 \cdot 4 = \underline{\quad\quad} \quad \text{u}$

$63 : \underline{\quad\quad} = 7 \quad \text{l}$

$8 \cdot 8 = \underline{\quad\quad} \quad \text{k}$

$10 \cdot 5 = \underline{\quad\quad} \quad \text{j}$

$70 : 7 = \underline{\quad\quad} \quad \text{a}$

$48 : 8 = \underline{\quad\quad} \quad \text{d}$



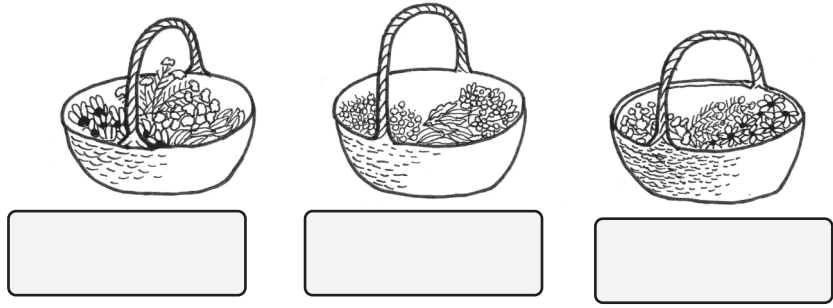
Lepljiva

64	21	6	0	9	50	10	

4

Reši besedilne naloge.

A Tri prijateljice so nabirale zelišča. Spodaj so tri košarice z zelišči. Ena je Manjina, ena Sanjina in ena Vanjina. Vanjina ni skrajno levo, vendar je levo od Manjine. V okvirčke napiši še ti, katera košarica je čigava.



B V sušilnici je šest vrvi. Na vsaki vrvici se suši 7 šopkov dobre misli. Babica vzame iz vsake vrvici po en šopek. Koliko šopkov ostane v sušilnici?



Račun: _____

C Zeliščarji na Dolenjskem so v enem tednu nabrali 85 dag zelišč, v drugem 69 dag in v tretjem tednu 81 dag. Zeliščarji na Gorenjskem pa so v istem času skupaj nabrali 229 dag zelišč. Kdo je nabral več zelišč?

Račun: _____

Odgovor: _____

Koliko več zelišč so nabrali?

Račun: _____

Odgovor: _____



Č Vstopnica za gobjo razstavo za odraslo osebo stane 9 evrov, za otroka pa 4 evre. Koliko evrov bo plačala štiričlanska družina z dvema otrokoma?



Račun: _____

