

Ime in priimek:

Število točk:

1

Izračunaj račune in pretvori merske enote. Besede, ki so napisane poleg nalog, vpiši na ustrezna mesta v razpredelnico. Izvedel boš, kaj piše na spominski tabli, ki visi v Kranjski Gori na rojstni hiši znanega mladinskega pisatelja.

$$\begin{array}{r} 5631 \\ + 1870 \\ \hline \end{array}$$

KNJIGE

$$50 \text{ dm} + \underline{\hspace{2cm}} \text{ dm} = 10 \text{ m}$$

ŽIV

$$\begin{array}{r} 9320 \\ - 480 \\ \hline \end{array}$$

SPOMIN

$$1 \text{ min in } 54 \text{ s} = \underline{\hspace{2cm}} \text{ s}$$

JOSIP

$$500 \text{ dag} = \underline{\hspace{2cm}} \text{ kg}$$

KEKEC

$$\begin{array}{r} \underline{\hspace{2cm}} \\ - 1200 \\ \hline 6880 \end{array}$$

MOJCA

$$5 \text{ l in } 2 \text{ dl} = \underline{\hspace{2cm}} \text{ dl}$$

KOSOBRIN

$$5 \text{ tednov in } 6 \text{ dni} = \underline{\hspace{2cm}} \text{ dni}$$

VANDOT

$$\begin{array}{r} 3801 \\ + \underline{\hspace{2cm}} \\ \hline 7950 \end{array}$$

TUKAJ

$$\begin{array}{r} 220 \\ + 7210 \\ \hline \end{array}$$

MLADI



	RODIL	SE	JE		
4149				114	41

PISAL	JE		ZA		ROD.
		7501		7430	

	OHRANILI	MU	BODO	
50				8840

	IN		IN	
5		8080		52



2

Izračunaj račune. Rezultatom poišči enaka števila v sliki in polja pobarvaj.

Prikazal se ti bo pravljичni junak, ki ga je ustvarila Svetlana Makarovič.

$$\underline{\quad} \cdot 5 = 45$$

$$72 \cdot 54 = \underline{\quad}$$

$$25 \cdot 7 = \underline{\quad}$$

$$72 : 9 = \underline{\quad}$$

$$89 \cdot 41 = \underline{\quad}$$


$$705 \cdot 6 = \underline{\quad}$$

$$56 : 8 = \underline{\quad}$$

$$23 \cdot 11 = \underline{\quad}$$

$$52 \cdot 30 = \underline{\quad}$$

$$320 \cdot 6 = \underline{\quad}$$



3

Reši naloge. Rezultate napiši na črte, nato jih vstavi v križanko, kot je zahtevano: vodoravno  $\rightarrow$  ali navpično  $\downarrow$ .

A  $\rightarrow$ 

Koliko znaša razlika števil 4955 in 680?

Razlika je \_\_\_\_\_.

B  $\downarrow$ 

Zmnožku števil 290 in 25 prištej število 7.

Dobiš število \_\_\_\_\_.

A  $\downarrow$ 

Katero število moramo prišteti številu 2801, da dobimo 7142?

Prišteti moramo število \_\_\_\_\_.

C  $\rightarrow$ 

Od vsote števil 2890 in 1110 odštej število 179.

Rezultat je \_\_\_\_\_.

D  $\downarrow$ 

Seštej števili 307 in 591.

Vsota znaša \_\_\_\_\_.

E  $\downarrow$ 

Število 46 množi s številom 3.

Zmnožek znaša \_\_\_\_\_.

G  $\rightarrow$ 

Predhodnik števila 1879 je \_\_\_\_\_.

A

B

C

D

E

F

G


4

## Reši besedilne naloge.


Zvezdica Zaspanka bi morala biti na nebu ob 22.00 uri, vendar je zaspala in prišla na delovno mesto šele ob 23.40. Koliko minut je zamudila?

Pobarvaj sliko s pravilnim rezultatom in izvedel boš, kakšen vzdevek je imel avtor Zvezdice Zaspanke – Frane Milčinski.

Račun: \_\_\_\_\_



40 minut



10 minut



100 minut

Kajetan Kovič je skupaj s Cirilom Zlobcem, Tonetom Pavčkom in Janezom Menartom izdal zbirko Pesmi štirih. Kovič je napisal 24 pesmi. Koliko pesmi bi bilo v zbirki, če bi vsak od pesnikov napisal natanko toliko pesmi, kot jih je napisal Kajetan Kovič?

Pobarvaj sliko s pravilnim rezultatom in izvedel boš, katerega pravljičnega junaka je ustvaril Kajetan Kovič.

Račun: \_\_\_\_\_



96



72



48

Oton Župančič je poleg pesmi pisal tudi uganke. V zbirki je 18 uvodnih ugank, 28 jih zajema kmečko življenje, 3 govorijo o cerkvi, 42 jih sprašuje o svetlobnih pojavih, zadnjih 9 pa se nanaša na domovino. Vsaka uganka ima v povprečju 3 vrstice. Koliko vrstic je v tej zbirki ugank?

Pobarvaj sliko s pravilnim rezultatom in izvedel boš naslov ene izmed Župančičevih pesniških zbirk za otroke.

Račun: \_\_\_\_\_



99



300



100

