

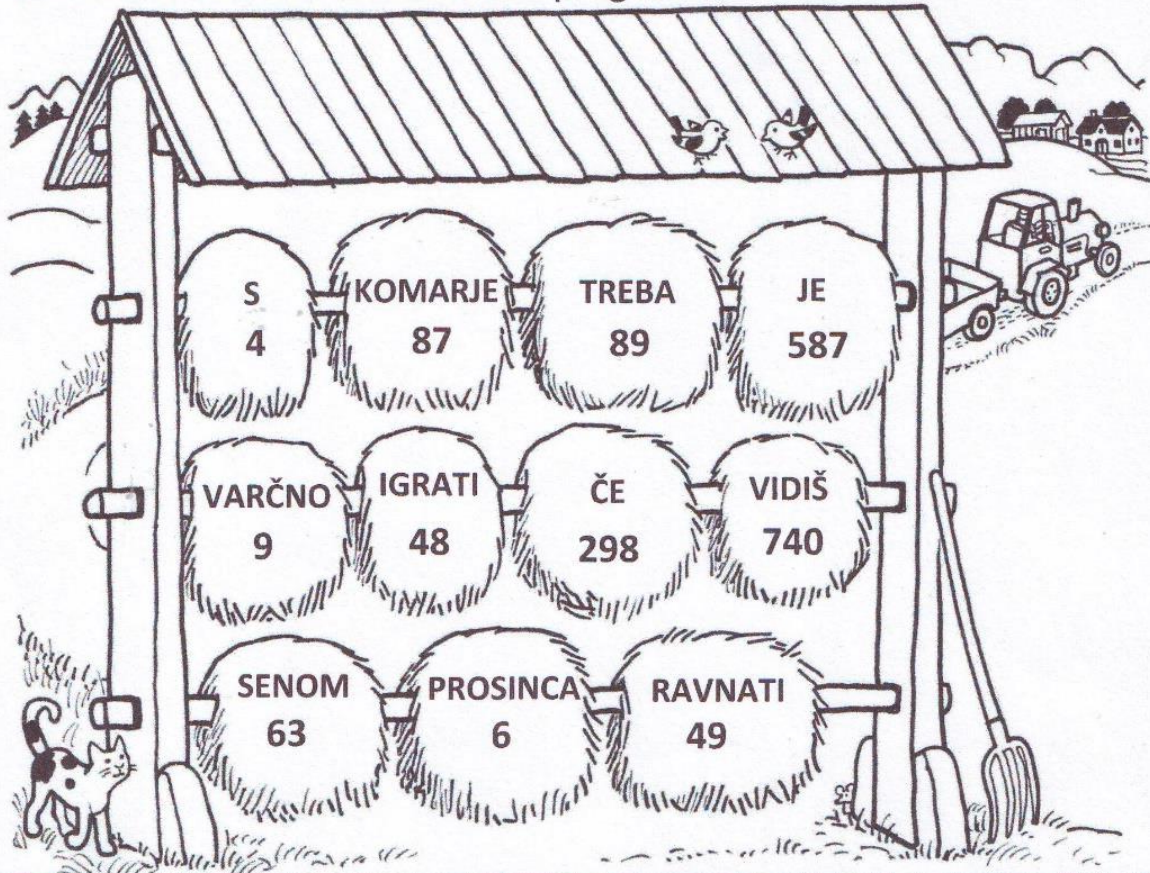
Ime in priimek:

Število točk:

65



Izračunaj račune. Rezultate poišči v kozolcu. Ustrezne besede prepisi k računom. Dobil boš star slovenski pregovor.



$\begin{array}{r} 707 \\ - 409 \\ \hline 298 \end{array}$	$\begin{array}{r} 482 \\ + 258 \\ \hline 740 \end{array}$	četrtnina od 24 = 6	$\begin{array}{r} 302 \\ - 215 \\ \hline 87 \end{array}$
ČE	VIDIŠ	PROSINCA	KOMARJE
$\begin{array}{r} 48 : 6 = 8 \end{array}$	$\begin{array}{r} 587 \\ + 169 \\ \hline 756 \end{array}$	$\begin{array}{r} 616 \\ - 89 \\ \hline 527 \end{array}$	$8 \cdot 4 = 32$
IGRATI	JE	TREBA	S
$9 + 6 \cdot 9 = 63$	$8 \cdot x = 72$ $x = 9$	$7 \cdot 6 + 7 = 49$	<p>Računi = 4 točk Pregovor = 1 točka</p>
SENOM	VARČNO	RAVNATI	

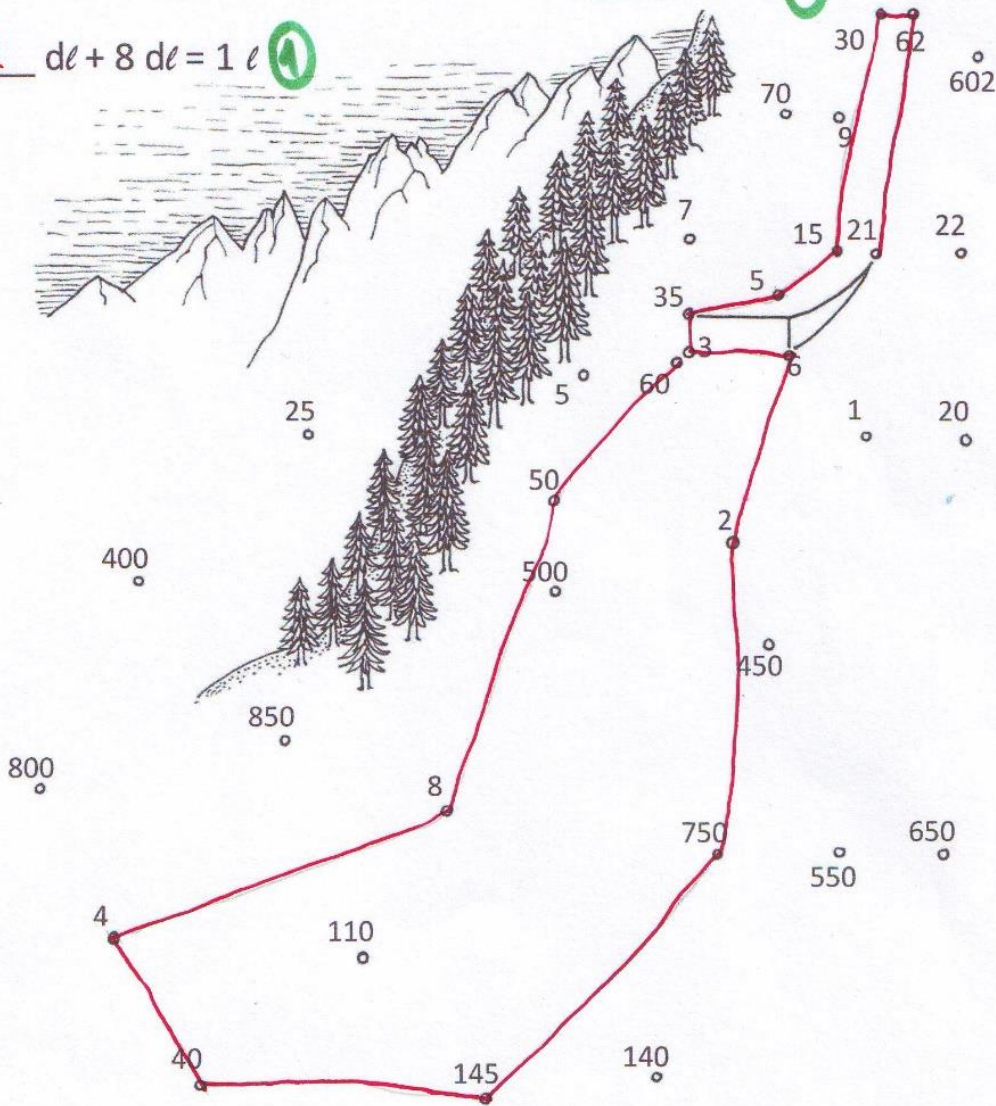
12





Pretvori merske enote. Po vrsti poveži rezultate. Prikazala se ti bo ena izmed slovenskih znamenitosti.

- | | |
|---|---|
| 1) <u>21</u> ur + 3 ure = 1 dan (A) | 10) 250 g + <u>750</u> g = 1 kg (A) |
| 2) januar + marec = <u>62</u> dni (A) | 11) 220 dni + <u>145</u> dni = 1 leto (A) |
| 3) 70 cm + <u>30</u> cm = 1 m (A) | 12) <u>40</u> min + 20 min = 1 ura (A) |
| 4) četrtnina ure = <u>15</u> minut (A) | 13) 16 dni + 12 dni = <u>4</u> tedni (A) |
| 5) pol metra = <u>5</u> dm (A) | 14) 400 cm + 400 cm = <u>8</u> m (A) |
| 6) 65 cm + <u>35</u> cm = 1 m (A) | 15) pol kilograma = <u>50</u> dag (A) |
| 7) četrtnina leta = <u>3</u> meseci (A) | 16) 40 dag + <u>60</u> dag = 1 kg (A) |
| 8) 2 evra 50 centov + 3 evre 50 centov = <u>6</u> evrov (A) | |
| 9) <u>2</u> dl + 8 dl = 1 l (A) | |




17

Računi = 16 točk Slika = 1 točka



V vsaki vrsti lipovih listov nadaljuj zaporedje. V vseh treh vrstah je eno število enako. Pobarvaj ga v vseh treh vrstah.



21 točk + 1 točka za pobarvano število



Reši besedilne naloge. V čebelnjaku pobarvaj panje s pravilnimi rezultati.

A Čebelar Tone ima 9 panjev s čebelami. Leta 2016 je pridelal 126 kg medu. Leta 2017 je pridelal 9 kg več kot leta 2016, leta 2018 pa 18 kg več kot leto prej. Koliko medu je pridelal leta 2018?

Račun: $126 + 9 = 135$ $135 + 18 = 153 \text{ kg}$

② računa

Odgovor: Pridelal je 153 kg medu.

① odgovor

B Teta je pri čebelarju kupila 4 kozarce medu zase in 2 kozarca za našo družino. Kupila je tudi 1 cvetni prah za nas in 1 propolis zase in 1 propolis za nas. Kozarec medu stane 11 €, cvetni prah 5 € in propolis 6€. Koliko denarja ji mora vrniti naša družina?

Račun: $11 + 11 + 5 + 6 = 33 \text{ €}$

② račun

Odgovor: Vrniti ji moramo 33 €.

① odgovor

C Miha je star 9 let. Njegov oče je petkrat starejši od njega, mama pa štirikrat. Njegov brat Jaka je šestkrat mlajši od mame.

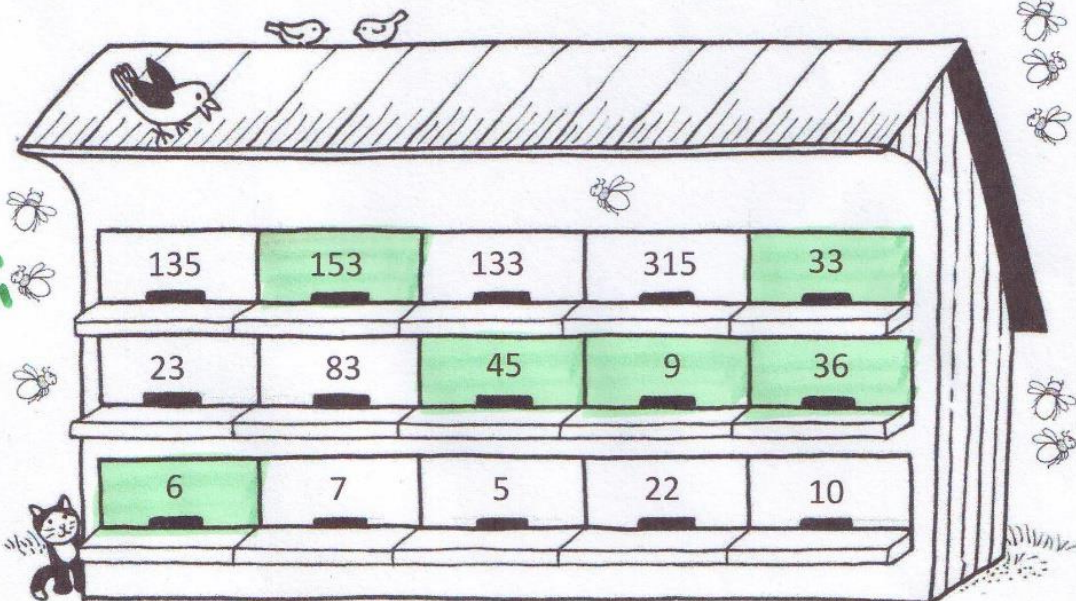
Račun: $9 \cdot 5 = 45 \text{ let}$ $9 \cdot 4 = 36 \text{ let}$ $36 : 6 = 6 \text{ let}$

③ računi

Odgovor: Miha je star 9 let, Jaka je star 6 let, mama je stara 36 let, oče je star 45 let.

④ odgovor

① pravilno pobarvani panji



14

