

Ime in priimek:


REŠITVE IN TOČKOVANJE

Število točk:


35



1 Nadaljuj z zapisom. Piši na črte, ki jih imajo živali na telesu.



1



1



1



1

4





2 Izračunaj. Nato pobarvaj polja s pravilnimi rezultati.

$$36 - 5 = \underline{31}$$

①

$$57 + 3 = \underline{60}$$

①

$$69 - 5 = \underline{64}$$

①

$$58 + 1 = \underline{59}$$

①

$$9 + 7 = \underline{16}$$

①

$$62 - 1 = \underline{61}$$

①

$$49 - 6 = \underline{43}$$

①

$$12 - 8 = \underline{4}$$

①

$$32 + 7 = \underline{39}$$

①

$$46 + 3 = \underline{49}$$

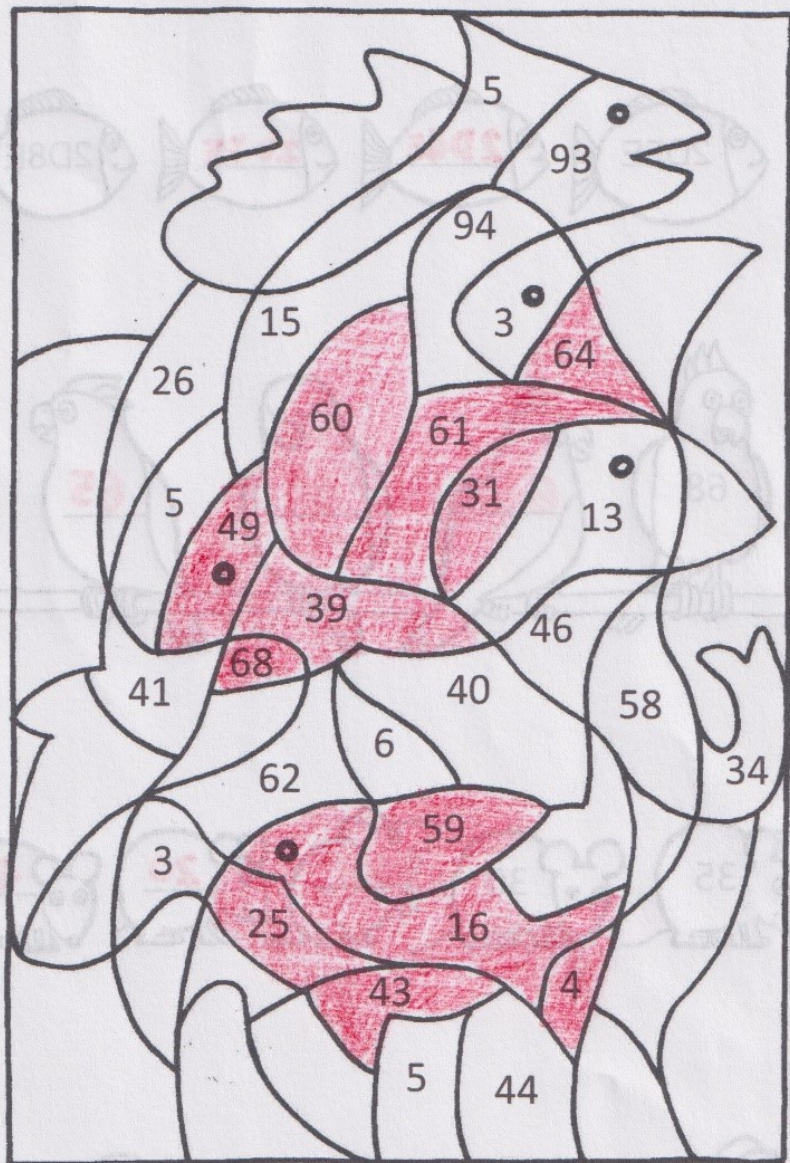
①

$$28 - 3 = \underline{25}$$

①

$$62 + 6 = \underline{68}$$

①



Dobil/a sem: 2 RIBI / RIBICI

①



Reši račune. Poveži kužka s kostjo. Vsak kuža dobi samo eno kost.
Obkroži tiste kužke, ki niso dobili kosti.

70 - **5** = 65

49 - **8** = 41

63 + **6** = 69

2 + 48 = 50

0

5

6

7

4

3

1

8

2

9


20 - **1** = 19

16 + **3** = 19

52 + **7** = 59

4 + 35 = 39

8 točk za račune
2 za obkrožena kužka



Reši naloge.

A Papagaj Aron je najprej znal 5 besed, ki jih je neprestano ponavljal. Nejc ga je naučil še 7 besed. Koliko besed je na koncu znal Aron?

Račun: $5 + 7 = 12$



Odgovor: Aron je znal 12 besed.



B Muc Alf je na vrtu ujel 6 miši. Muca Neca je ujela 2 miški več. Koliko mišk je ujela Neca? Koliko miši sta ujela Alf in Neca skupaj?

Račun: $6 + 2 = 8$



Račun: $6 + 8 = 14$



Odgovor: Muca Neca je ujela 8 mišk.



Odgovor: Skupaj sta ujela 14 miši.



C Reks ima zelo rad pasje piškote. Manca je kupila škatlo piškotov. V škatli je bilo 38 piškotov. Reks je prvi dan pojedel 6 piškotov. Koliko piškotov mu je ostalo?

Račun: $38 - 6 = 32$



Odgovor: Ostalo mu je 32 piškotov.

