

Ime in priimek: \_\_\_\_\_

Število točk: \_\_\_\_\_



1 Reši račune. Pobarvaj cvetove s pravilnimi rezultati. Ugotovil/a boš, katere cvetlice je dobila Aleša za 8. marec – dan žena.

$12 + 9 = \underline{\quad}$

$61 + \boxed{\quad} = 70$

$98 - 9 = \underline{\quad}$

$38 - \boxed{\quad} = 32$

$\boxed{\quad} + 6 = 18$


$45 + 3 = \underline{\quad}$

$52 + \boxed{\quad} = 59$

$77 - 6 = \underline{\quad}$


$26 - \boxed{\quad} = 21$

$\boxed{\quad} - 5 = 50$





Alica je ob 8. marcu v dar prejela bonboniero. Napolni bonboniero: poveži račune z ustreznimi rezultati.





3 Pretvori merske enote in rezultate obkroži na sliki. Število, ki ostane, prepisi v spodnje besedilo. Izvedel/a boš, katerega dne v marcu se je prvotno praznovalo dan žena.

$1 \text{ m} = \underline{\quad} \text{ dm}$

$40 \text{ cm} = \underline{\quad} \text{ dm}$

$1 \text{ L} + 1 \text{ dl} = \underline{\quad} \text{ dl}$

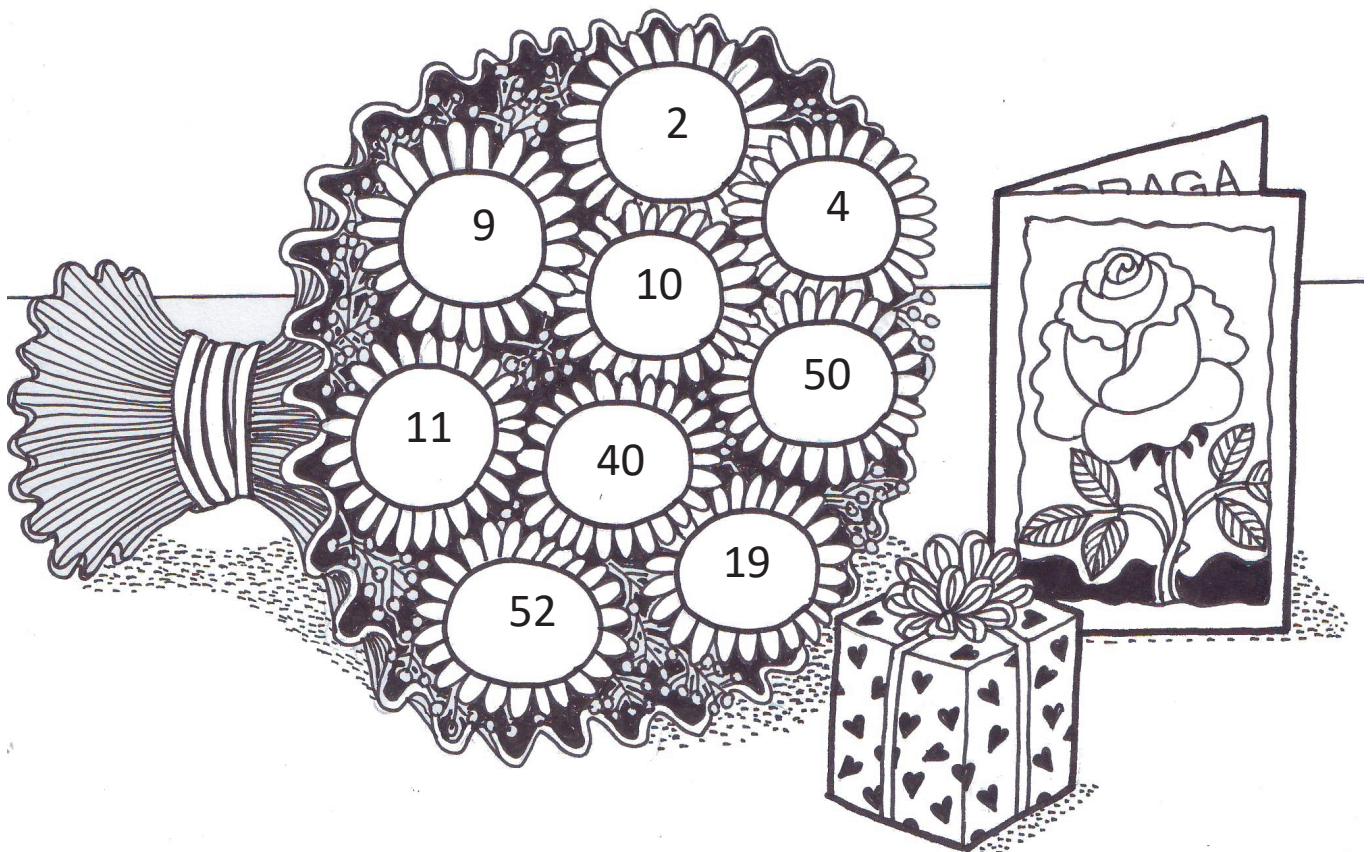
$20 \text{ dl} = \underline{\quad} \text{ L}$

$5 \text{ m} + 2 \text{ dm} = \underline{\quad} \text{ dm}$

$5 \text{ m} = \underline{\quad} \text{ dm}$

$4 \text{ L} = \underline{\quad} \text{ dl}$

$8 \text{ dm} + 10 \text{ cm} = \underline{\quad} \text{ dm}$



Dan žena se je v začetku praznovalo     . marca.





Reši naloge.

A Aneta ima tri sinove. Vsak od njih ji je ob dnevu žena na lica pritisnil štiri poljubčke. Koliko poljubčkov je dobila Aneta?

Račun: \_\_\_\_\_

Odgovor: \_\_\_\_\_



B V mestu je 29 trgovin. V 16 ne praznujejo dneva žena, v ostalih pa vsaki dami poklonijo darilce. Koliko darilc je prejela Anika, če je na ta dan obiskala vseh 29 trgovin?

Račun: \_\_\_\_\_

Odgovor: \_\_\_\_\_



C Marjeta je za 8. marec prejela 8 vrtnic, Cveta 15 vrtnic več, Flora pa 2 vrtnici manj kot Marjeta. Koliko vrtnic sta prejeli Cveta in Marjeta skupaj?

Račun: \_\_\_\_\_

Odgovor: \_\_\_\_\_



Č V tovarni, kjer je zaposlenih 68 oseb, so delavkam za dan žena omogočili prost dan. Koliko oseb je ostalo na delu, če je žensk v tovarni 47?

Račun: \_\_\_\_\_

Odgovor: \_\_\_\_\_

